

Lembar Kerja Peserta Didik

LKPD

Matematika

DATA

Kelompok:


Nama:

.....

.....

.....

.....



Instansi : SDN

Tahun Penyusunan : Tahun 2024

Jenjang Sekolah : SD

Mata Pelajaran : Matematika

Fase / Kelas : C / 5

Bab 8 : Data

Topik A : Mengumpulkan Data

Alokasi Waktu : 2 x 35 menit

TUJUAN PEMBELAJARAN

- 1. Dengan memahami materi, peserta didik mampu memahami data dan tabel frekuensi dengan benar.**
- 2. Dengan mengamati lingkungan sekitarnya, peserta didik mampu mengumpulkan data sederhana dari lingkungan sekitarnya dengan benar.**
- 3. Dengan memahami materi dan video pembelajaran, peserta didik mampu merumuskan hasil pengumpulan data menggunakan tabel frekuensi sederhana dengan benar.**

PETUNJUK

1. Berdoa terlebih dahulu sebelum memulai!
2. Isi identitas yang sudah disediakan di halaman pertama!
3. Kerjakan soal dengan teliti!
4. Setelah selesai mengerjakan soal, tekan tombol "Finish" untuk mengirim jawaban!



1. Perhatikan data berat badan 20 anak kelas 5 SDN 05 V Koto Kampung Dalam berikut ini.

40 38 40 42 44 38 39 38 40 40
45 45 42 40 39 38 41 43 44 43

Dari data tersebut, tentukanlah:

- a. Nilai Minimum
- b. Nilai Maksimum
- c. Buatlah Tabel Frekuensi
- d. Nilai Tersedikit
- e. Nilai Terbanyak



JAWAB


a.

b.

c.

d.

e.

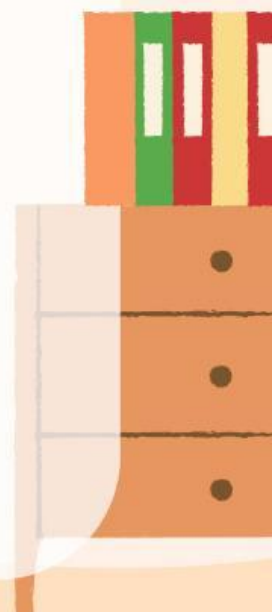




2. perhatikan Lingkungan disekitar mu!

- a. Secara berkelompok, coba kumpulkan data warna favorit teman-teman kelompokmu. Tanyailah teman kalian satu per satu, lalu catat hasil temuan kalian pada tabel!

JAWAB





2. perhatikan Lingkungan disekitar mu!

b. Buatlah tabel frekuensi dari hasil pendataan yang kalian lakukan

JAWAB

c. Seandainya ada pedagang sepatu yang mendapat kesempatan untuk menawarkan dagangannya di sekolah kalian, saran apa yang akan kalian berikan kepada pedagang sepatu tersebut? Gunakan hasil temuan kalian dari kegiatan nomor 1 dan 2 sebagai bahan pertimbangan memberikan sara

JAWAB

