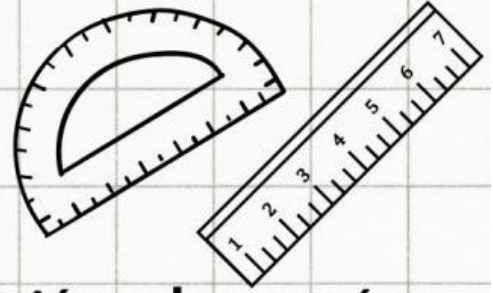


CLASIFICACIÓN DE TRIÁNGULOS



Escribe el nombre de cada uno de los triángulos según sus características.

Según sus lados



Todos sus lados son iguales.




Tiene dos lados iguales y uno es diferente.



Todos sus lados son diferentes.


Según sus ángulos



Tiene un ángulo recto.



Sus ángulos internos son menores a 90° (agudos).



Tiene un ángulo obtuso (mayor a 90°).