











Mengenal internet

1. Komputer di seluruh dunia saling terhubung menggunakan teknologi _____
2. Kegunaan internet yaitu untuk dapat saling _____ dan _____
3. Aplikasi - aplikasi di internet diwakilkan oleh logo-logo berikut ini

| Logo | Nama Aplikasinya |
|---|------------------|
|  | |
|  | |
|  | |
|  | |
|  | |
|  | |
|  | |
|  | |
|  | |
|  | |

Penjelajah Web

Web browser

1. Program aplikasi penjelajah web berguna untuk mengunjungi _____ atau _____ yang ada di internet.
2. Sebutkan 3 contoh program penjelajah web!
☐ _____
☐ _____
☐ _____

Surat Elektronik

E-mail





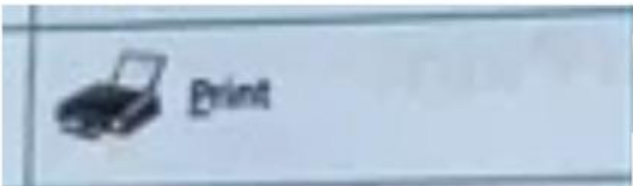
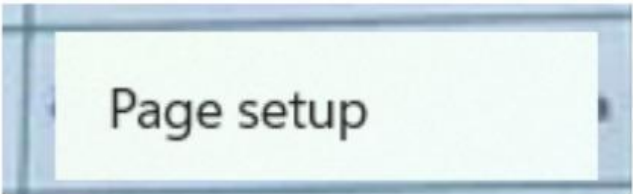
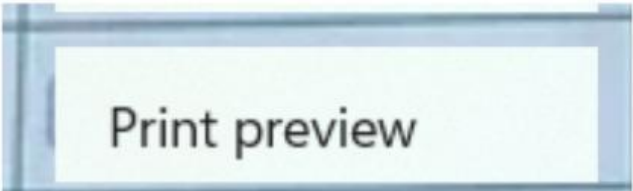

1. Surat yang dikirim melalui internet disebut _____ atau _____
2. Email merupakan kegunaan Internet yang dapat dijadikan sarana untuk berkirim _____
3. Email merupakan kependekan dari _____
4. Kelebihan surat elektronik adalah _____

Microsoft Paint

Tampilan Jendela Paint

1. Toolbar yang menampilkan nama program dan nama file yang sedang aktif adalah _____
2. Menu cepat untuk menjalankan sebuah perintah save, undo atau redo adalah _____
3. Tempat ikon-ikon yang digunakan pada saat menggambar pada paint adalah _____





Tampilan Menu File

| Fungsi | | Nama Perintah |
|---|--|--|
| Keluar dari program Paint | |  |
| Mencetak hasil gambar | |  |
| Melihat hasil gambar | |  |
| Mengatur kertas kerja yang digunakan untuk mencetak | |  |
| Memulai gambar dengan membuat file baru | |  |
| Membuka file gambar | |  |
| Menyimpan hasil gambar dengan nama (file) lain | |  |
| Membuat wallpaper tepat di tengah layar monitor | |  |

| | | |
|---|--|--|
| Membuat wallpaper menjadi gambar besar yang memenuhi layar monitor. | |  |
| Menyimpan hasil gambar | |  |
| | | |

Ikon Shapes

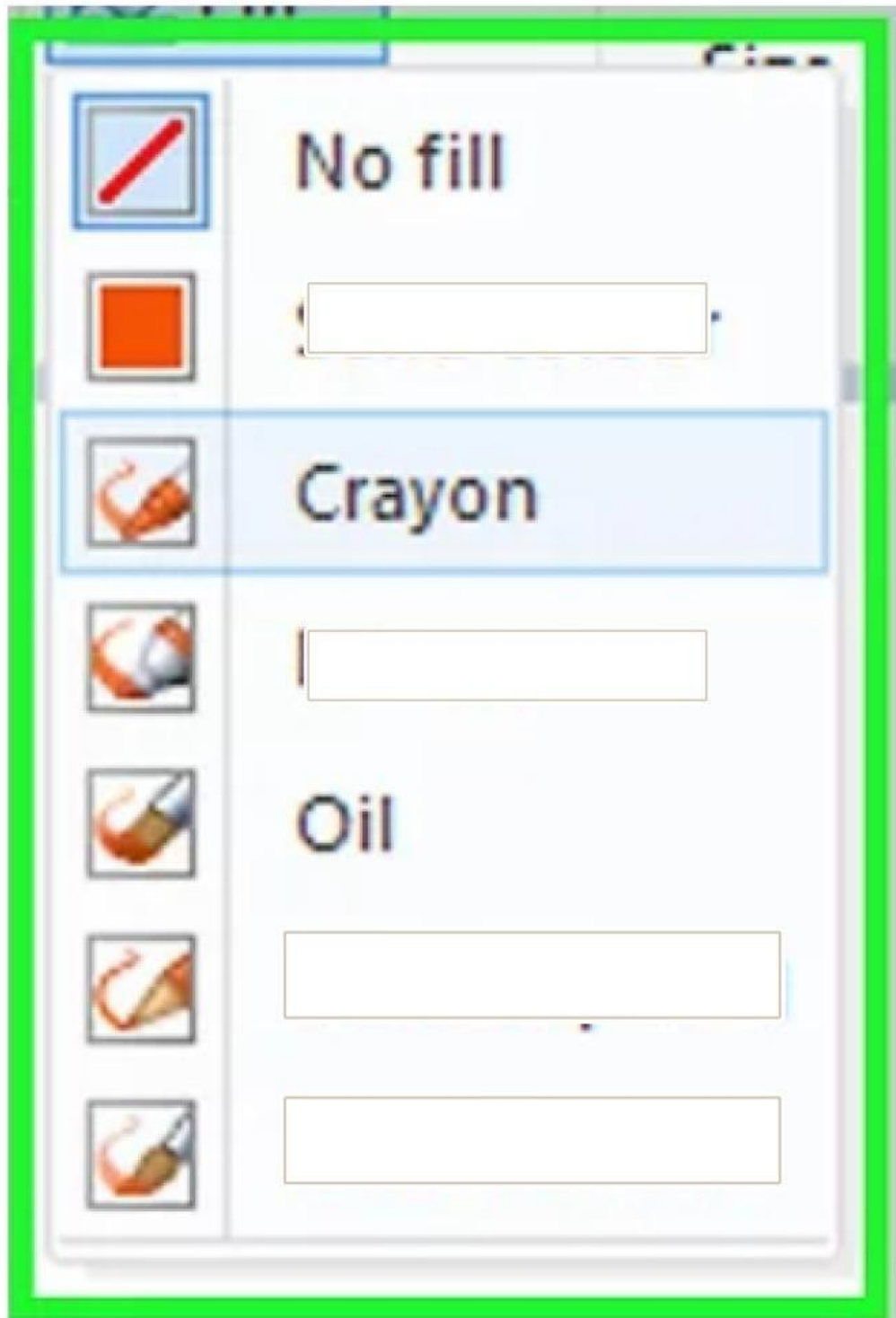
KOMPUTER IKON SHAPES

| No | Pertanyaan | Jawaban |
|----|---|--|
| 1 | Line berfungsi untuk | _____ |
| 2 | Rectangle berfungsi untuk | _____ |
| 3 | Oval callout berfungsi untuk | _____ |
| 4 | Up arrow berfungsi untuk | _____ |
| 7 |  | Gambar disamping merupakan ikon _____ |
| 8 |  | Gambar disamping merupakan ikon _____ |
| 9 |  | Gambar disamping merupakan ikon _____ |
| 10 |  | Gambar disamping merupakan ikon _____ |

Ikon Shapes

Outline dan Fill








Ikon outline di program paint mempunyai pilihan efek warna yaitu :



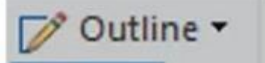
1. Ikon outline dan fill merupakan bagian dari ikon _____
 - Colour
 - Menu File
 - Shapes
 - Tools
2. Untuk memberi efek garis tepi pada sebuah gambar menggunakan ikon _____
 - Outline
 - Fill
 - No Fill
 - No Outline
3. Untuk memberi efek warna dalam sebuah gambar menggunakan ikon _____
 - Outline
 - Fill
 - No Fill
 - No Outline
4. Untuk menghilangkan efek outline pada tepi garis sebuah gambar, maka dapat memilih ikon _____
 - Outline
 - Fill
 - No Fill
 - No Outline
5. Jika ingin mengosongkan warna dalam sebuah gambar, maka dapat memilih ikon _____
 - Outline
 - Fill
 - No Fill
 - No Outline

Ikon Clipboards, Images dan Tools

Kumpulan Ikon tools

| No | Nama Tools | Gambar | Fungsi |
|----|-------------------------|---|--------|
| 1 | Eraser |  | |
| 2 | Fill With Color |  | |
| 3 | Color Picker/Pick Color |  | |
| 4 | Magnifier |  | |
| 5 | Pencil |  | |
| 6 | Brush |  | |
| 7 | Text |  | |

8. Outline




9. Untuk menghilangkan efek outline pada tepi garis sebuah gambar, maka memilih ikon _____

10. Jika ingin mengosongkan warna di dalam gambar, maka dapat memilih _____

11. Ikon yang digunakan untuk memilih objek adalah _____

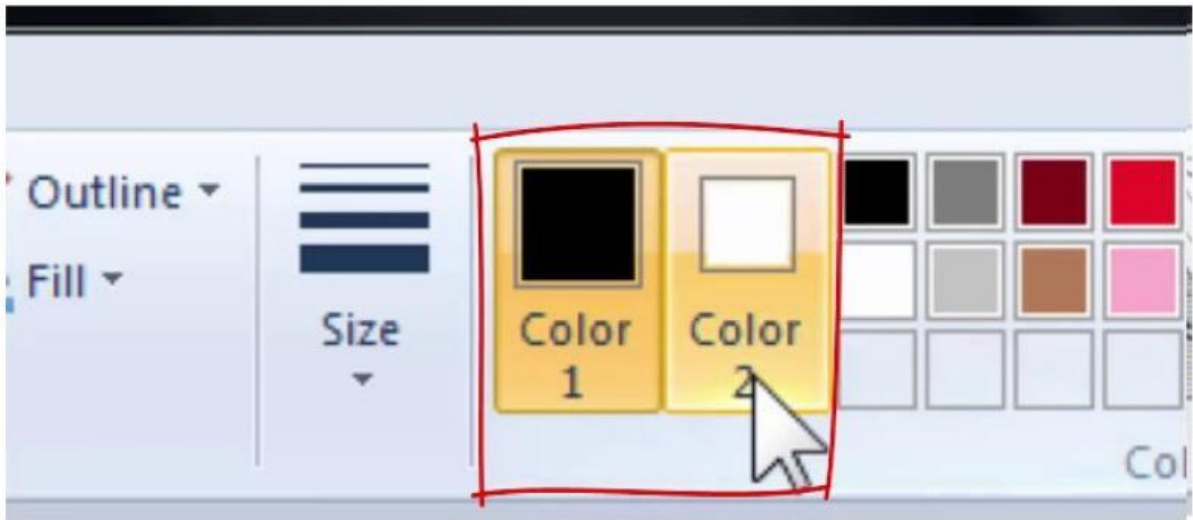
12.  Ikon untuk menyalin objek tanpa meninggalkan salinan adalah ____

13.  Ikon untuk menyalin objek disebut _____

14.  Ikon untuk meletakkan salinan objek disebut _____

15.  digunakan untuk _____

Ikon Size, Color 1 dan Color 2



1. Ikon yang digunakan untuk mengatur ketebalan garis tepi sebuah gambar adalah ikon _____

- size
- Color 1
- color 2
- Outline

2. Ikon yang berada di samping ikon shapes adalah _____

- size
- Color 1
- Fill
- Outline

3. Ukuran ketebalan garis mulai dari _____ hingga yang _____

4. Untuk memberi warna garis tepi gambar menggunakan ikon _____

- size
- Color 1
- color 2
- Outline

5. Untuk memberi warna di dalam sebuah gambar menggunakan ikon _____

- size
- Color 1
- color 2
- Outline

Cara menyalakan komputer

- 1) pasang _____
- 2) tekan tombol _____
- 3) tekan tombol _____
- 4) tungguhlah hingga _____
- 5) _____

Cara mematikan komputer

- 1) kembalikan _____
- 2) gerakkan _____
- 3) klik logo _____
- 4) tunggu hingga _____
- 5) minta bantuan _____

