

EVALUACIÓN INTEGRADORA TRIMESTRAL DE CIENCIAS NATURALES

NOMBRE:


FECHA:

Los organismos: diversidad, unidad, interrelaciones y cambios.

1. EL PLANETA TIERRA TIENE DOS TIPOS DE FACTORES ESCRIBÍ SUS NOMBRES:

2. OBSERVÁ ESTAS IMÁGENES Y COMPLETÁ CON SUS NOMBRES Y UNA CARACTERÍSTICA DE ESE FACTOR:

FACTORES _____

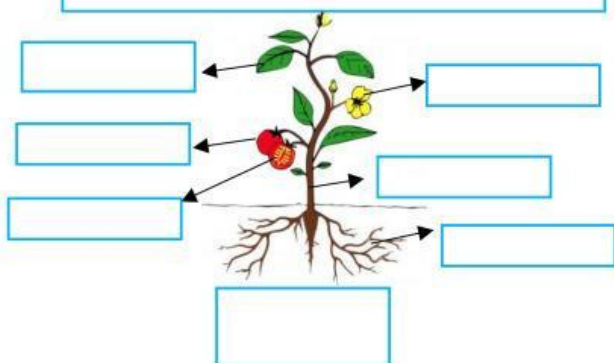


CARACTERÍSTICA:



CARACTERÍSTICA:

FACTORES _____



NOMBRE: _____

ESTRUCTURA: _____

CLASIFICACIÓN DE ALIMENTACIÓN: _____

TIPO DE ALIMENTACIÓN: _____

AMBIENTE: _____

REPRODUCCIÓN: _____

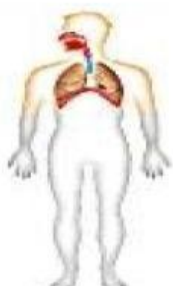
DESPLAZAMIENTO: _____

3. ¿CÓMO SE CLASIFICAN LAS PLANTAS SEGÚN SU ALIMENTACIÓN? _____

4. ¿CÓMO SE LLAMA EL PROCESO POR EL CUAL ELABORA SU ALIMENTO? _____

5. ¿QUÉ CARACTERÍSTICAS TIENEN LOS SERES VIVOS? _____

6. ESCRIBÍ LOS NOMBRES DE CADA SISTEMA DEL CUERPO HUMANO:



7. SELECCIONÁ LAS ACCIONES POSITIVAS QUE DEBEMOS TENER PARA CUIDAR EL MEDIOAMBIENTE:

Controlar el consumo de agua

Reciclar, rehusar, reutilizar

Evitar la tala de árboles

Quemar los desechos para producir humo

Tirar la basura en cualquier lugar

Evitar el cultivo excesivo

8. ESCRIBÍ ALGUNA ACCIÓN NEGATIVA QUE PRODUZCA CADA TIPO DE CONTAMINACIÓN:



Contaminación del suelo



Contaminación del aire



Contaminación del agua

La Tierra, el universo y sus cambios.

1) UNÍ EL NOMBRE CON EL FENÓMENO QUE CORRESPONDA:

LLUVIA

ARCOÍRIS

TORMENTA ELÉCTRICA

VIENTO



2) ESCRIBÍ EL NOMBRE DEL CONJUNTO DE ESTOS FENÓMENOS:


FENÓMENOS _____

Los materiales y sus cambios.

1) OBSERVÁ ESTAS IMÁGENES Y SELECCIONÁ HOMOGÉNEA O HETEROGÉNEA DEPENDIENDO DEL TIPO QUE MEZCLA QUE SEA:



2) UNÍ CON EL NOMBRE DEL MÉTODO QUE UTILIZA PARA SEPARAR ESTAS MEZCLAS:



IMANTACIÓN

FILTRACIÓN

¡LLEGASTE!

