

**SOAL SUMATIF AKHIR SEMESTER  
MI YAPPI BADONGAN  
TAHUN PELAJARAN 2024/2025**

Mata Pelajaran	: Matematika	Nama	: .....
Kelas	: IV (Empat)	Hari/Tanggal	: .....
Semester	: Ganjil	Nilai	: <input style="width: 100px; height: 20px;" type="text"/>

**I. Berilah tanda (x) pada huruf a, b, c, atau d pada jawaban yang paling benar!**

1. Jumlah 180 juta dan 840 juta adalah. . .
  - a. 960 juta
  - b. 1.010 juta
  - c. 1.020 juta
  - d. 1.200 juta
  
2. Selisih dari 23 triliun dan 17 triliun yaitu...
  - a. 3 triliun
  - b. 4 triliun
  - c. 5 triliun
  - d. 6 triliun
  
3. Pak Anton akan membangun rumah di kota Makmur. Biayanya adalah 1.100.000.000 rupiah untuk membeli lahan, dan 2.300.000.000 rupiah untuk pembangunan rumah. Biaya total yang harus dibayar Pak Anton adalah...rupiah
  - a. 3.400.000.000
  - b. 3.500.000.000
  - c. 4.300.000.000
  - d. 1.200.000.000
  
4. Ada 30 buah apel. Apel tersebut dibagi sama rata di antara 5 orang. Banyak apel yang diterima setiap anak yaitu...
  - a. 4 buah apel
  - b. 5 buah apel
  - c. 6 buah apel
  - d. 8 buah apel
  
5. Dina memiliki 24 cokelat. Agar setiap anak menerima 6 cokelat dari Dina, maka banyaknya anak yang diberikan cokelat yaitu..
  - a. 4 orang


- b. 6 orang
- c. 8 orang
- d. 12 orang
6. Perhatikan pernyataan berikut!  
 12 permen dibagikan kepada 6 anak. Setiap anak mendapatkan 2 permen. 12 permen dibagikan kepada 3 anak. Setiap anak mendapatkan 4 permen.
- Apabila banyak anak berkurang setengahnya, maka jumlah permen yang diterima setiap anak akan....
- a. berkurang menjadi setengahnya
- b. bertambah menjadi 2 kali lipat
- c. berkurang menjadi 2 kali lipat
- d. bertambah menjadi setengahnya

7. Perhatikan operasi hitung bilangan berikut!

$$\begin{array}{r}
 30 : 3 = 10 \\
 \downarrow \times 2 \\
 30 : 6 = 5
 \end{array}
 \left. \vphantom{\begin{array}{r} 30 : 3 = 10 \\ \downarrow \times 2 \\ 30 : 6 = 5 \end{array}} \right\} : \square$$

- Angka yang tepat untuk mengisi kotak di atas yaitu...
- a. 1
- b. 2
- c. 3
- d. 4
8. Ada 5 bungkus dengan masing-masing 12 permen di dalamnya. Kemudian semua permen itu dibagikan kepada 4 anak. Banyak permen yang akan didapat setiap anak yaitu. . .
- a. 12 orang
- b. 15 orang
- c. 25 orang
- d. 27 orang
9. Kartika memiliki 6 kardus dengan masing-masing 8 botol susu di dalamnya. Semua susu tersebut akan dibagikan kepada 4 orang. Banyak susu yang akan didapat setiap orang yaitu...
- a. 8 botol susu
- b. 10 botol susu
- c. 12 botol susu
- d. 16 botol susu


10. Perhatikan gambar berikut!



Semua permen di atas akan dibagikan kepada 3 anak. Setiap anak akan mendapatkan....

- a. 8 permen
- b. 10 permen
- c. 12 permen
- d. 15 permen

11. Perhatikan gambar berikut!



Semua potongan coklat di atas akan dibagikan kepada 6 siswa. Setiap siswa akan mendapatkan. . .

- a. 2 coklat
- b. 3 coklat
- c. 4 coklat
- d. 5 coklat

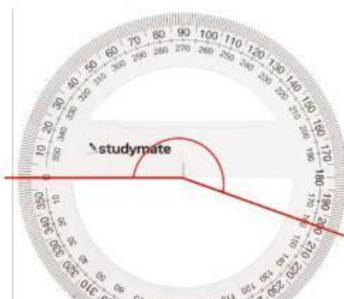
12. Perhatikan gambar berikut!



Sania melakukan pengukuran sudut. Diperoleh hasil seperti gambar di atas. Ukuransudut K yaitu...

- a.  $50^\circ$
- b.  $60^\circ$
- c.  $110^\circ$
- d.  $120^\circ$

13. Perhatikan gambar berikut!



Hasil dari pengukuran sudut di atas yaitu...

- a.  $20^\circ$
- b.  $180^\circ$
- c.  $200^\circ$
- d.  $215^\circ$

14. Hasil dan sisa pembagian antara 45 dan 7 yaitu...

- a. 5 dan 2
- b. 5 dan 3
- c. 6 dan 2
- d. 6 dan 3

15. Witan membagikan 68 cokelat sama rata kepada 8 anak. Cokelat yang akan diterima setiap anak dan sisanya yaitu...

- a. 7 dan 4
- b. 7 dan 5
- c. 8 dan 4
- d. 8 dan 5

16. Perhatikan pembagian susun berikut!

$$\begin{array}{r} 8 \\ 6 \overline{) 49} \\ \underline{48} \\ 1 \end{array}$$

Hasil dari pembagian di atas yaitu...

- a. 1
- b. 8
- c. 48
- d. 49

17. Coki membagikan 48 pensil sama rata kepada 2 anak. Setiap anak akan memperoleh pensil sebanyak...

- a. 12 buah
- b. 24 buah
- c. 16 buah
- d. 28 buah

18. Dina dan 5 temannya akan membuat 720 origami berbentuk ayam. Jika setiap anak membuat origami dalam jumlah yang sama, origami yang harus dibuat setiap anak yaitu...
- 12
  - 144
  - 120
  - 150

19. Perhatikan gambar berikut!



(1)



(2)



(3)



(4)

Segi empat dengan empat sisi yang panjang sama ditunjukkan oleh gambar nomor yaitu...

- satu
  - dua
  - tiga
  - empat
20. Perhatikan gambar berikut!



(a)



(b)



(c)



(d)

Garis-garis yang saling tegak lurus ditunjukkan oleh huruf...

- (a) dan (b)
  - (b) dan (c)
  - (c) dan (d)
  - (d) dan (b)
21. Dede akan menggambar dua garis yang saling tegak lurus. Kedua garis tersebut harus digambar dengan membentuk sudut...
- lancip
  - tumpul
  - siku-siku

d. berpelurus



22. Perhatikan diagram berikut!

Diagram di atas menunjukkan kegemaran siswa kelas 4, 5, dan 6 SD Harapan. Banyaknya siswa yang gemar membaca yaitu...

- a. 10 orang
- b. 15 orang
- c. 25 orang
- d. 30 orang

23. Perhatikan diagram berikut!

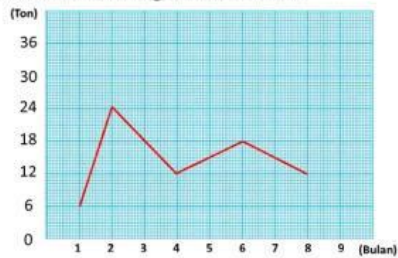


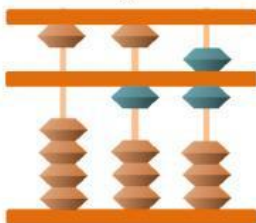
Diagram garis tersebut menunjukkan penjualan jeruk oleh PT Makmur Sejahtera. Penjualan terbanyak terjadi pada bulan ke...

- a. 2 (Februari)
- b. 3 (Maret)
- c. 6 (Juni)
- d. 8 (Agustus)

24. Ada 433 orang siswa yang akan masuk ke kebun binatang. Harga tiket masuk 4.600 rupiah per orang. Perkiraan uang yang harus dibayar oleh semua siswa yaitu...

- a. 1.000.000
- b. 1.500.000
- c. 1.800.000
- d. 2.000.000

25. Perhatikan gambar berikut!



Semproa di atas menunjukkan bilangan ..

- a. 15
- b. 16
- c. 17
- d. 18

**II. Jawablah Pertanyaan di Bawah ini dengan benar !**

1. Bilangan yang menyatakan 10 kali 450 yaitu
2.  $596 - 560$  ribu = ...
3.  $28 : 7 = \dots$
4.  $256 : 16 = \dots$
5.  $236 \times 8 =$
6.  $321 \times 13 =$
7.  $144 : 12 =$
8. Gambarlah belah ketupat!
9. Bulatkan angka berikut ke nilai puluhan ribu terdekat!
  - 24.000
  - 67.000
10. Hitunglah operasi berikut menggunakan semproa!
  - $24 + 12 =$
  - $45 + 15 =$
  - $75 + 105 =$
  - $24 - 12 =$