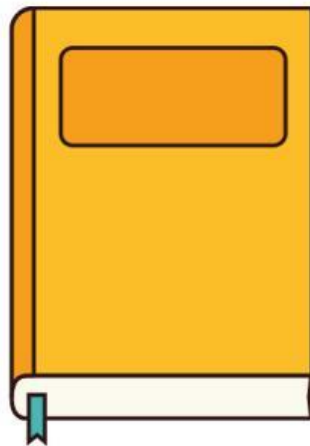


Nama : .....

Kelas : .....

## LUAS DAN VOLUME

### Soal 1

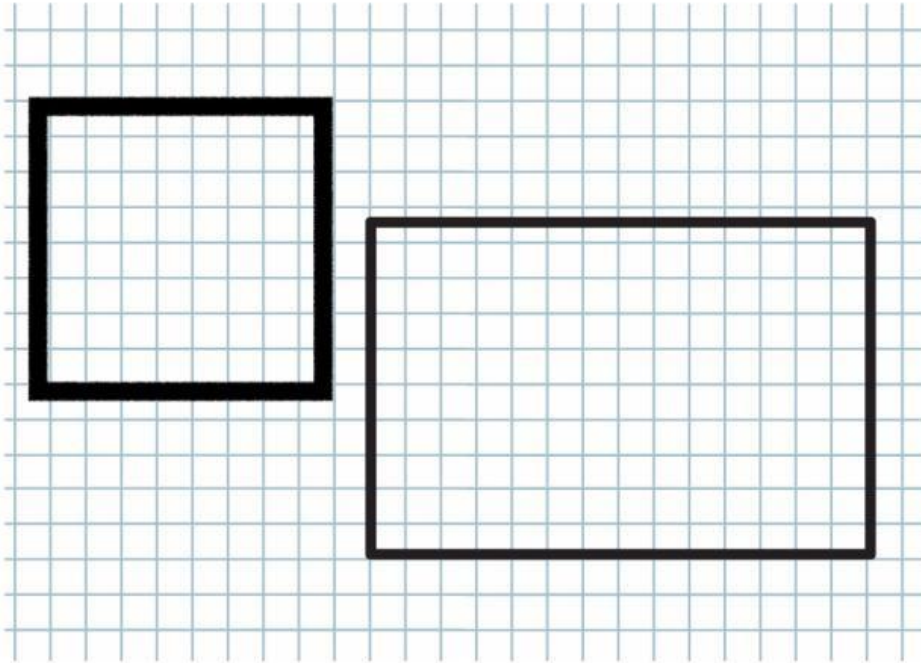


Bagaimana kamu bisa menentukan panjang dan lebar buku menggunakan penghapus sebagai alat ukur?

**Jawaban!**

# LUAS DAN VOLUME

## Soal 2



Perhatikan bentuk-bentuk bangun datar yang ada pada kertas grid. Bagaimana kamu bisa menghitung luasnya dengan bantuan kotak-kotak pada grid tersebut?

**Jawaban!**

# LUAS DAN VOLUME

## Soal 3




Ukur panjang dan lebar buku menggunakan penggaris, kemudian hitung luasnya. Bagaimana cara kamu menentukan hasilnya?

**Jawaban!**

# LUAS DAN VOLUME

## Soal 4



Tuangkan air dari botol ke dalam cup kecil hingga penuh. Berapa banyak cup yang dibutuhkan untuk mengisi botol? Jelaskan langkah-langkah yang kamu ambil dan bagaimana kamu memastikan hasilnya akurat.

**Jawaban!**

# LUAS DAN VOLUME

## Soal 5



Gunakan kubus kecil untuk mengisi ruang di dalam sebuah wadah berbentuk balok. Hitung jumlah kubus kecil yang diperlukan.

**Jawaban!**