

¿Cuántos cristales hay en toda la fachada?



¿Qué tres cosas se relacionan en el problema?

- Número de partes →
- Valor de cada parte →
- Total →

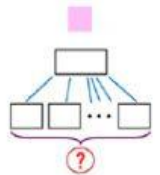
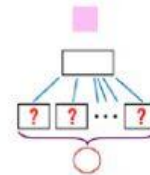
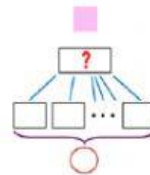
¿Qué me dan y qué me piden?



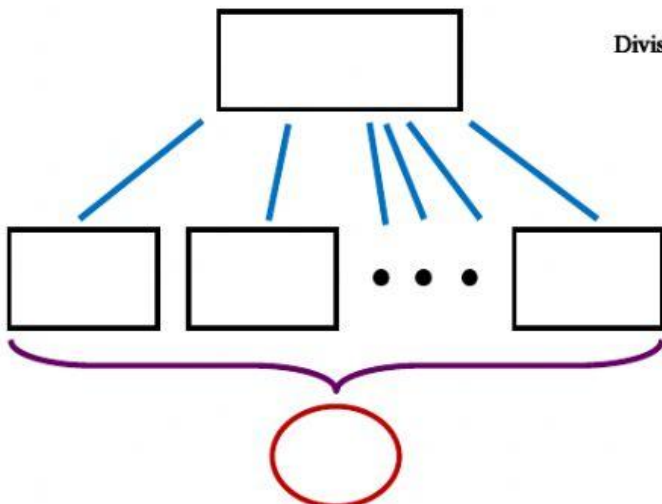
Multiplicación

☐

División

☐


Elige



Respuesta: