

Lembar Kerja Peserta Didik

LKPD

KOMPOSISI BANGUN DATAR

Nama Kelompok: _____

Nama Anggota :

1. _____
2. _____
3. _____
4. _____
5. _____






Tujuan Pembelajaran :

1. Peserta didik dapat menyusun komposisi beberapa bangun datar dengan tepat.
2. Peserta didik dapat menentukan banyaknya bangun datar yang dapat disusun menjadi satu bangun dengan tepat

Petunjuk Pengerjaan :

1. Tulislah nama kelompok dan anggota kelompok pada tempat yang telah disediakan
2. Bacalah petunjuk dan soal dengan teliti
3. Kerjakan soal dan Jawablah soal dengan tepat sesuai instruksi yang diberikan

Alokasi Waktu : 15 Menit

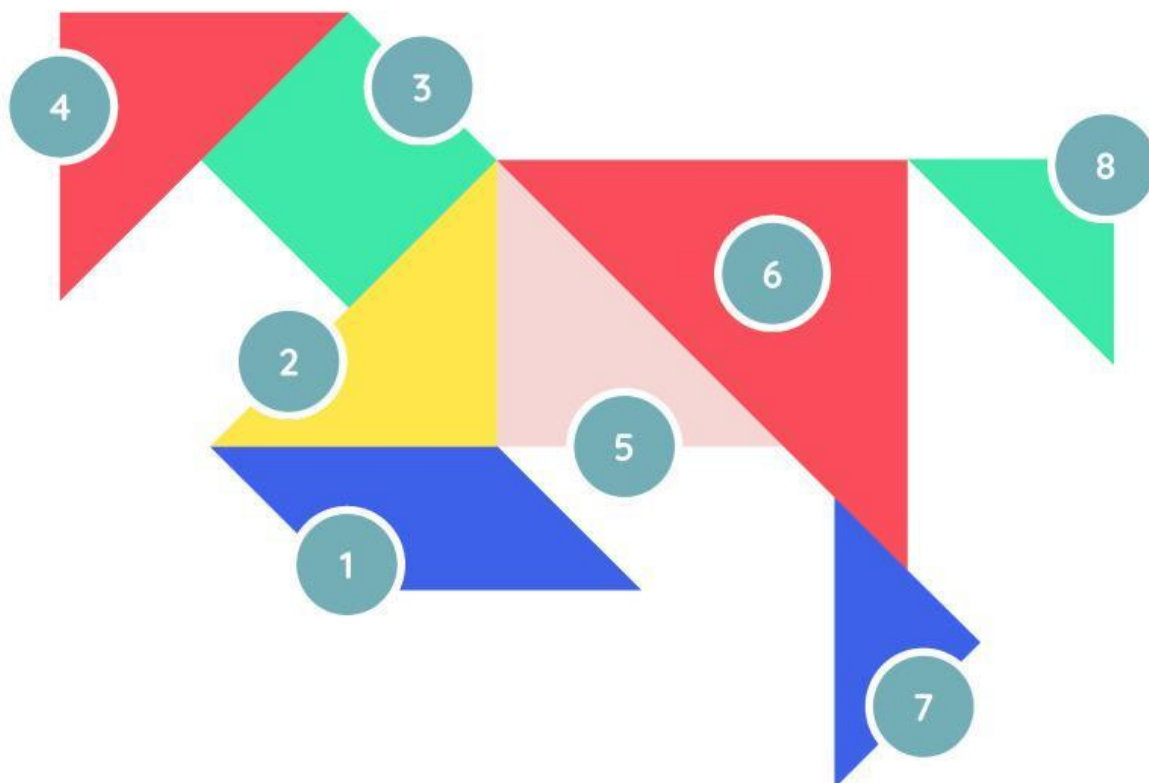


Nama Kelompok :

Kelas :

Bangun Datar

Tuliskan nama bangun sesuai nomor yang diberikan.



1

.....

4

.....

7

.....

2

.....

5

.....

8

.....

3

.....






6

.....

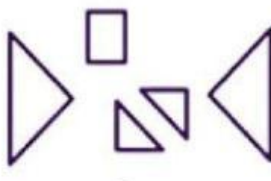
Nama Kelompok :


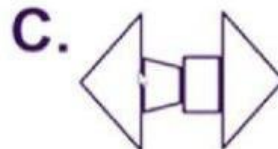
Kelas:


Pasangkan Sesuai Dengan Bentuk!

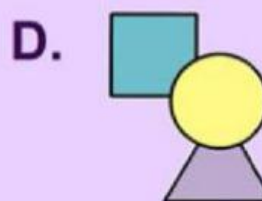
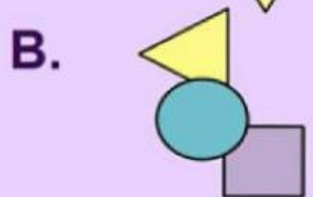
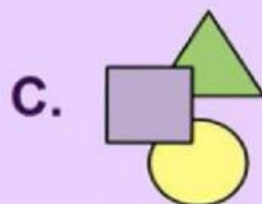



Pilihlah 1 jawaban yang benar pada kotak tersebut.

1  Komposisi yang sesuai dengan bangun tersebut adalah... .



2  Komposisi bangun datar yang sesuai dengan bangun tersebut adalah



3  Komposisi bangun datar yang sesuai dengan bangun tersebut adalah... .

