

3

ORGANIZA LA INFORMACIÓN, ELIGE LA OPERACIÓN Y RESPONDE A LA PREGUNTA

Se utilizaron 828 galletas para llenar estos paquetes
¿Cuántas galletas hay en cada paquete?



¿Qué tres cosas se relacionan en el problema?

- Número de partes →
- Valor de cada parte →
- Total →

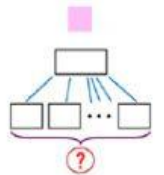
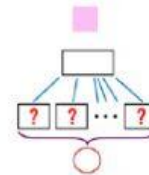
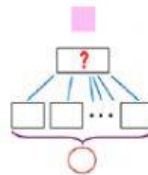
¿Qué me dan y qué me piden?



Multiplicación

☐

División

☐


Elige

Respuesta:

