

LEMBAR KERJA PESERTA DIDIK

# LKPD


MATEMATIKA



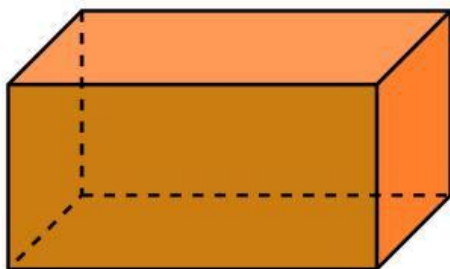
**NAMA :**

**KELAS :**

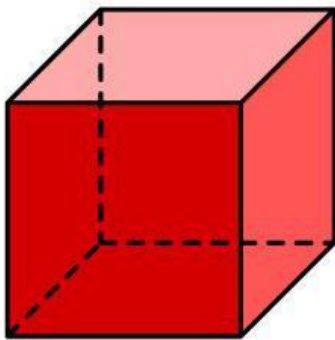
**PASANGKAN GAMBAR DENGAN KOLOM  
SESUAI NAMA BANGUN RUANG**



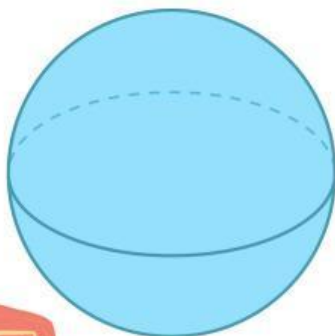
**KUBUS**



**TABUNG**



**BALOK**



**BOLA**

## **Centanglah pertanyaan yang benar!!**

**Balok memiliki 4 rusuk yang ukurannya sama**

**Balok memiliki 4 rusuk yang ukurannya tidak sama**

**Tabung memiliki sisi (selimut) yang bentuknya lengkung**

**Tabung memiliki sisi (selimut) yang bentuknya garis lurus**

**Bola mempunyai rusuk**

**Bola tidak mempunyai rusuk**

**Kubus memiliki 21 rusuk yang ukurannya sama**

**Kubus memiliki 12 rusuk yang ukurannya sama**

**Apa yang kamu dapat dari belajar bangun ruang??**

