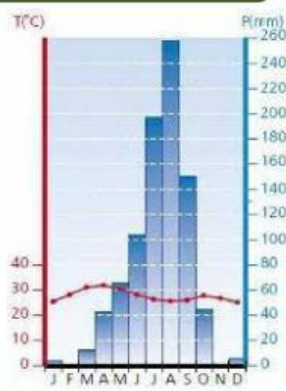
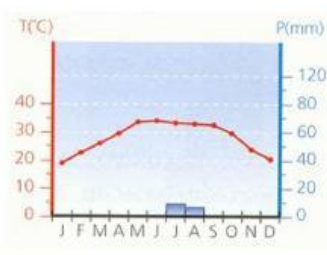
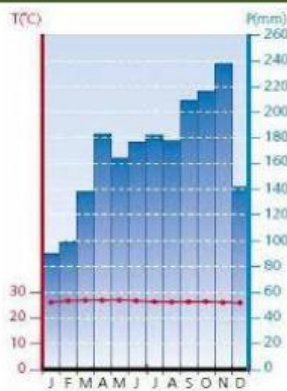
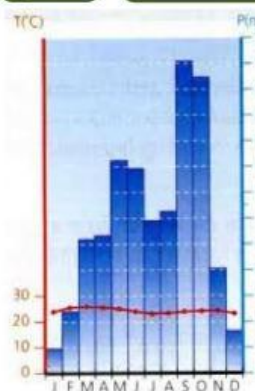


**Unidade 2 - O Meio Natural**

**Clima Quente**



**Observa** os gráficos termopluviométricos 1, 2, 3 e 4 e **associa-os** aos respetivos ao clima quentes.



**1**

**2**

**3**

**4**



**Corresponde** os gráficos termopluviométricos 1, 2, 3 e 4, às respetivas características .

**Características**

**Gráfico**

Registam-se temperaturas elevadas e constantes ao longo do ano.

Predomina junto aos trópicos de Câncer e de Capricórnio.

Tem duas estações, uma seca e outra húmida, sendo que a estação seca é mais prolongada.

Localiza-se junto do Equador.

Precipitação muito reduzida e esporádica.

Possui apenas uma única estação, seca e quente.

Ocorre precipitação abundante e regular ao longo de todo o ano.

Localiza-se em latitudes ligeiramente mais elevadas do que o clima associado ao gráfico termopluviométrico 2.

Localiza-se em latitudes ligeiramente mais baixas do que o clima associado ao gráfico termopluviométrico 3.

Tem duas estações, uma seca e outra húmida, sendo que a estação húmida é mais prolongada.

Nome: \_\_\_\_\_



Turma: \_\_\_\_\_ N.º: \_\_\_\_\_



Data: \_\_\_\_/\_\_\_\_/\_\_\_\_



**Bom Trabalho!**