

¿Cuántos euros tienen?

A N A

$$\begin{array}{c} \text{100 EURO} \\ \text{100} \end{array} + \begin{array}{c} \text{20 EURO} \\ \text{20} \end{array} + \begin{array}{c} \text{5 EURO} \\ \text{5} \end{array} = \boxed{}$$




S U S A N A

$$\begin{array}{c} \text{200 EURO} \\ \text{200} \end{array} + \begin{array}{c} \text{50 EURO} \\ \text{50} \end{array} + \begin{array}{c} \text{5 EURO} \\ \text{5} \end{array} = \boxed{}$$

P A Q U I T O

$$\begin{array}{c} \text{100 EURO} \\ \text{100} \end{array} + \begin{array}{c} \text{10 EURO} \\ \text{10} \end{array} + \begin{array}{c} \text{2 EURO} \\ \text{2} \end{array} = \boxed{}$$




G U I L L E

 +  +  =

L A U R A

 +  +  =

P A B L O

 +  +  =

¿Quién tiene más dinero?

¿Quién tiene menos dinero?

Ordena las cantidades de menor a mayor:

--	--	--	--	--	--

Autor pictogramas: Sergio Palao

Procedencia: <http://catedu.es/arasaac/> Licencia: CC (BY-NC-SA)

<http://enelauladeapoyo.blogspot.com/> ELENA E. MEDINA