

# LKPD

## LEMBAR KERJA PESERTA DIDIK

### AYO MEMBILANG SAMPAI 100

Nama Kelompok : \_\_\_\_\_

Anggota Kelompok : \_\_\_\_\_

\_\_\_\_\_

\_\_\_\_\_

\_\_\_\_\_

\_\_\_\_\_

Kelas : 2 (Dua)

Semester : 1 (Satu)

Hari / Tanggal : \_\_\_\_\_

Waktu : 20 menit


Tujuan LKPD : Setelah menyelesaikan lkp  
Peserta didik dapat membilang  
sampai dengan 100

Disusun oleh : Febrina Damayanti




## PETUNJUK KERJA :


1. Bacalah Permasalahan berikut ini :




“Ayah mempunyai kartu angka sebagai berikut :36, 45, 55, 63, Bantulah ayah untuk menyelesaikan bagaimana cara membilang kartu angka tersebut”.



2. Duduklah dikelompok yang sudah ditentukan




3. setiap kelompok menerima LKPD yang sudah disiapkan



4. Diskusikan dengan temanmu bagaimana cara membaca dan menulis lambang bilangan , menentukan nilai puluhan dan satuan, membandingkan dan mengurutkan kartu angka tersebut.

5. masing-masing perwakilan kelompok mempresentasikan hasil kerja kelompok didepan kelas



6. Perwakilan kelompok mempresentasikan hasil kerja kelompok secara klasikal bagaimana cara membilang kartu angka milik ayah

1. Buatlah kalimat lambang bilangan kartu angka milik ayah dengan cara mengisi kolom dibawah ini !

Kartu Angka	Tuliskan kalimat lambang bilangan kartu milik ayah
36	
45	
55	
63	




2. Tentukan nilai tempat puluhan dan satuan kartu angka milik ayah

KARTU ANGKA	PULUHAN	SATUAN
36		
45		
55		
63		

3. Tariklah dengan memilih salah satu simbol lebih kecil dari ( $<$ ) atau lebih besar dari ( $>$ ) perbandingan kedua kartu milik ayah

36		45
63		55

Simbol :



4. urutkanlah kartu angka milik ayah dari yang terkecil hingga terbesar dengan cara menarik kartu angka dan mengisi kolom dibawah ini!

Terkecil			Terbesar

63	45	55	36
----	----	----	----

~ SELAMAT BEKERJA ~