

# LKPD

**Kelompok** : .....

**Kelas** : .....

**Mata Pelajaran** : .....

**Nama Anggota Kelompok** :

1. ....

2. ....

3. ....

4. ....

**Petunjuk Mengerjakan Soal :**

1. Awali dengan berdo'a sebelum mengerjakan LKPD dan sebelum belajar ini.
2. Tulislah nama anggota kelompok pada lembar kerja.
3. Setelah itu, siapkan alat atau bahan yang diperlukan dalam mengerjakan soal.
4. Lakukan langkah kegiatan sesuai dengan pengerjaan dengan tepat dan benar.
5. Periksa kembali hasil diskusinya sebelum mengumpulkan hasil kerja diskusinya.
6. Selamat Mengerjakan!

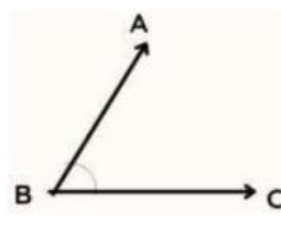
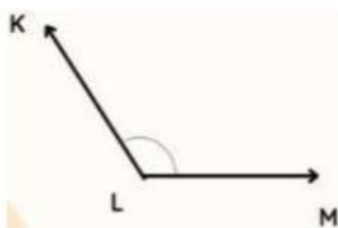
**Soal :**

1. Perhatikan gambar di bawah ini !








Pada gambar tersebut, apakah ananda menemukan benda yang mempunyai sudut atau yang berbentuk sudut pada gambar dibawah ini? Ayo, coba ananda temukan benda apa saja dan tulis pada lembar kerja benda apa saja yang berbentuk sudut.

2. Ukurlah pada sudut dibawah ini dengan menggunakan busur!



3. Berilah dengan tanda centang pada jawaban yang benar dalam mengisi soal dibawah ini!

No	Gambar	Nama Benda	Jenis Sudut yang Membentuk
1.		Sudut yang berbentuk pada penggaris.	<input type="radio"/> Sudut Lancip <input type="radio"/> Sudut Siku-siku <input type="radio"/> Sudut Tumpul <input type="radio"/> Sudut Lurus <input type="radio"/> Sudut Refleks
2.		Saat gunting dibuka maka jenis sudut apa yang terbentuk.	<input type="radio"/> Sudut Lancip <input type="radio"/> Sudut Siku-siku <input type="radio"/> Sudut Tumpul <input type="radio"/> Sudut Lurus <input type="radio"/> Sudut Refleks
3.		Pada jarum pendek dan panjang saat jam menunjukkan pukul 08.00 maka yang terbentuk sudut apa.	<input type="radio"/> Sudut Lancip <input type="radio"/> Sudut Siku-siku <input type="radio"/> Sudut Tumpul <input type="radio"/> Sudut Lurus <input type="radio"/> Sudut Refleks
4.		Sudut pada pojokan jendela adalah.	<input type="radio"/> Sudut Lancip <input type="radio"/> Sudut Siku-siku <input type="radio"/> Sudut Tumpul <input type="radio"/> Sudut Lurus <input type="radio"/> Sudut Refleks
5.		Pada tangga rumah sudut yang berbentuk.	<input type="radio"/> Sudut Lancip <input type="radio"/> Sudut Siku-siku <input type="radio"/> Sudut Tumpul <input type="radio"/> Sudut Lurus <input type="radio"/> Sudut Refleks

4. Gambarlah sebuah jam, lalu gambar jam berapa ananda berangkat ke sekolah tadi pagi dan hitunglah berapa sudut yang terbentuk serta ukurlah pada sudut tersebut menggunakan busur!