



LKPD KELAS I FASE A BAB 4



Disusun oleh:
Rahyu Anggraini





A. CAPAIAN PEMBELAJARAN

Elemen : Geometri

- 1) Peserta didik dapat mengenal berbagai bangun datar dan bangun ruang, serta dapat menyusun dan mengurai bangun datar. Mereka dapat menentukan posisi benda terhadap benda lain.**



B. TUJUAN PEMBELAJARAN

- 1) Melalui powerpoint, peserta didik dapat menyebutkan bentuk bangun datar dengan tepat (Mengasosiasi, Critical thinking, ICT, C1)**
- 2) Melalui penggunaan media flashcard gambar benda, peserta didik dapat membedakan benda-benda di sekitar sesuai bentuknya dengan tepat (Mengasosiasi, Critical thinking, colaboratif, C2)**
- 3) Melalui penugasan pada LKPD, peserta didik dapat mengelompokkan beda-benda di sekitar sesuai dengan bentuknya dengan tepat (Critical thinking, colaboratif, C3)**
- 4) Melalui penugasan berkelompok, peserta didik dapat membuat dan menggabungkan bentuk bangun datar menggunakan kertas origami/kertas lipat dengan rapi. (Critical thinking, colaboratif, P5)**

C. LANGKAH KERJA

1. Berdoalah sebelum mengerjakan.
2. Tuliskan nama kelompok, namamu dan presensimu.
3. Tulislah nama bangun datar sesuai gambar yang terdapat di LKPD.
4. Tuliskan nama bangun datar sesuai bentuk permukaan benda yang ada pada LKPD.
5. Kelompokkan dan tuliskan nama benda sesuai dengan bentuk permukaannya.
6. Buatlah bangun datar dan gabungkan bentuk bangun datar dengan menempelkan kertas origami sesuai kreasimu menggunakan lem pada kertas karton yang tersedia.






Menyebutkan nama bangun datar

Sebutkan nama bangun datar dibawah ini!!


1



2



3




4






Tuliskanlah nama bangun datar dibawah ini sesuai dengan bentuk permukaan benda!!



Kelompokkanlah benda-benda dibawah ini berdasarkan bentuk permukaannya, kemudian tulislah nama bendanya!




Nama Kelompok A (Lingkaran):

- 1.
- 2.
- 3.

Nama Kelompok B (Persegi):

- 1.
- 2.
- 3.

Kelompokkanlah benda-benda dibawah ini berdasarkan bentuk permukaannya, kemudian tulislah nama bendanya!



Nama Kelompok C (Segitiga):

- 1.
- 2.
- 3.

Nama Kelompok D (Pesergi Panjang):

- 1.
- 2.
- 3.

**Tempelkan dan gabungkan yang telah
kamu buat sesuai kreasimu dan
teman-temanmmmu!**