

**MEM- Evaluare**  
**U. I.5 - Medii de viață**

Elev.....



**1. Scrie scăderile sub formă de împărțiri:**

a)  $24 - 4 - 4 - 4 - 4 - 4 =$  \_\_\_\_\_

b)  $21 - 3 - 3 - 3 - 3 - 3 =$  \_\_\_\_\_

c)  $18 - 6 - 6 - 6 =$  \_\_\_\_\_

**2. Calculează:**

$30 : 5 =$

$4 \times 8 =$

$36 : 4 : 3 =$

$48 : 6 =$

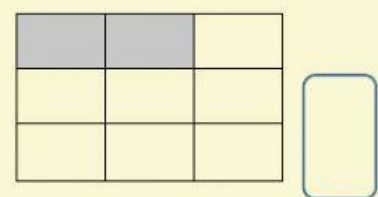
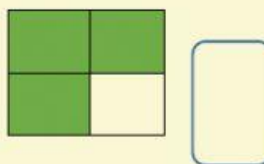
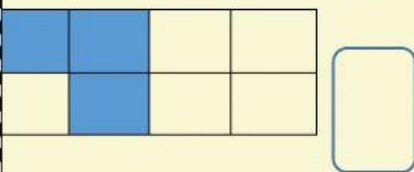
$6 \times 7 =$

$32 : 4 : 2 =$

**3. Află:**

- Numărul cu 6 mai mic decât 36; .....
- Numărul de 6 ori mai mic decât 36; .....
- Produsul numerelor 6 și 9; .....
- Câtul numerelor 24 și 6; .....
- Numărul de 5 ori mai mare decât predecesorul lui 8. ....

**4. Scrie fracțiile corespunzătoare desenelor:**



**5. Compară (<, >, =) :**

$3 \times 6$    $18 : 2$

$54 : 6$    $27 : 3$

$45 - 38$    $60 : 6$

**6. La produsul numerelor 7 și 8 adaugă câtul numerelor 36 și 9. Care este rezultatul?**

.....