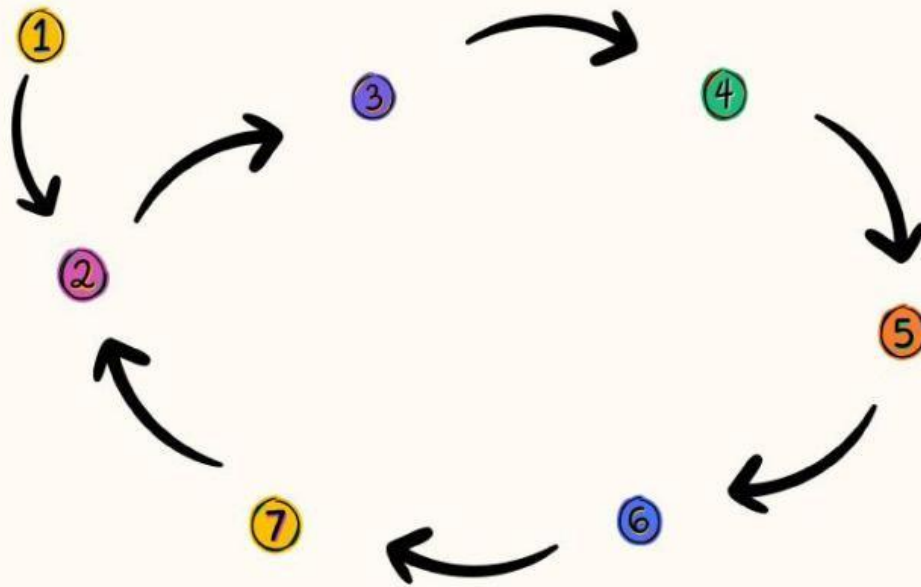


LKPD IPAS Kelas 5

Rantai Makanan


Pindahkan gambar di bawah ini agar sesuai dengan urutan rantai makanan!



Isilah kotak di bawah ini berdasarkan rantai makanan di atas !

<input type="radio"/> Produsen			<input type="radio"/> Konsumen 3
<input type="radio"/> Konsumen 1			<input type="radio"/> Konsumen 4
<input type="radio"/> Konsumen 2			<input type="radio"/> Pengurai


Urutkan rantai makanan pada ekosisten laut berikut ini !



Pilihlah jawaban yang tepat berdasarkan gambar di atas !



Yuk bermain dengan KAKI RAMA (Teka Teki Rantai Makanan)



Mendatar

4. Salah satu contoh hewan omnivora
7. Tanaman mikroskopis kecil
9. Bisa menghasilkan makannannya sendiri
10. Contoh dekomposer
11. Berfungsi sebagai konsumen pemakan tumbuhan dan buah-buahan
12. Salah satu hewan pemakan daging yang hidup di laut

Menurun

1. Hewan yang memangsa hewan lainnya
2. Segala jenis makhluk hidup
3. Sebutan lain dari pengurai
5. Bahan organik yang memiliki banyak unsur hara
6. Tumbuhan yang hidup di laut dangkal
8. Sebutan pemakan daging

