

SEKOLAH MENENGAH ATAS

KELAS X

LEMBAR KERJA

PESERTA DIDIK 2

FUNGI



Nama:



Kelas/ Absen:



OLEH: VAKHA YULIA NURZAHRA



LIVEWORKSHEETS

Lembar Kerja Peserta Didik 2

OBSERVASI JAMUR



Jawablah pertanyaan berikut dengan benar!

Tujuan: Siswa dapat mengobservasi jamur berdasarkan karakteristiknya dan peranannya dalam kehidupan

Petunjuk Pengerjaan:




1. Bacalah baik-baik LKPD berikut pada setiap nomornya
2. Carilah Gambar yang sesuai dengan apa yang diminta
3. Berikanlah struktur jamur menggunakan **gambar/ boleh deskripsi** yang anda dapat dari sumber belajar maupun internet.
4. Berikan klasifikasi pada jamur tersebut
5. Lakukan hal tersebut pada 3 jamur yang telah ditentukan pada LKPD ini
6. Laporan/pekerjaan dikumpulkan pada laman yang sudah ditentukan

Contoh Pengerjaan:

Gambar Bentuk jamur secara visual / morfologis	Struktur
 <p data-bbox="325 1552 587 1576">Nama Lokal: (Amanita)</p>	
Pemanfaatan dan Dampak	Klasifikasi
<p>Manfaat Positif Beberapa spesies Amanita dapat dimakan</p> <p>Dampak Negatif Banyak spesies dalam genus yang sangat mematikan dan beracun, jika spesimen diidentifikasi dengan salah, konsumsi dapat menyebabkan rasa sakit dan mungkin kematian.</p>	<p>Divisi : Basidiomycota Kelas : Agaricomycetes Ordo : Agaricales Famili : Amanitaceae Genus : Amanita Spesies : Amanita sp.</p>

Kerjakanlah!

Lembar Hasil Observasi dan Pencarian Informasi berikut:

No	Gambar Jamur Secara Morfologi	Struktur
1	 <p>Nama Lokal: Jamur Tiram</p>	
	Peranan Jamur	Klasifikasi
	Perananan Menguntungkan: Peranan Merugikan:	Divisi : Class : Ordo : Famili : Genus : Species :
2	 <p>Nama: Jamur Jelly (<i>Dacryopinax spathularia</i>)</p>	
	Peranan Jamur	Klasifikasi
	Perananan Menguntungkan: Peranan Merugikan:	Divisi : Class : Ordo : Famili : Genus : Species :
3	 <p>Nama Lokal: Jamur Pelawan</p>	
	Peranan Jamur	Klasifikasi
	Perananan Menguntungkan: Peranan Merugikan:	Divisi : Class : Ordo : Famili : Genus : Species :