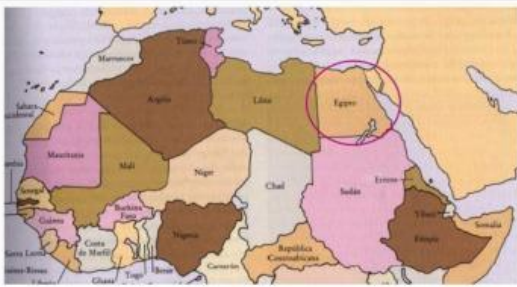



Evaluación Antiguo Egipto

1) *Tilda la/s respuesta correcta*



¿En qué continente se encuentra Egipto?

- a) Sáhara
- b) Europa
- c) Asia
- d) África



¿Por qué es importante el río Nilo? (2 o más)

- a) Porque de él obtenían agua para animales y personas.
- b) Porque gracias a su agua, los egipcios pueden regar sus cultivos.
- c) Porque sirve para que los barcos lleven productos de un lugar a otro del imperio.
- d) Porque las piedras para construir las pirámides las sacaban del fondo.



¿Cómo se llama este tipo de escritura?

- a) Cuneiforme
- b) Cursiva
- c) Dibujada
- d) Jeroglífica



Los monumentos más destacados del antiguo Egipto son...(más de 1)

- a) Iglesias y catedrales
- b) Mastabas e hipogeos.
- c) Palacios y templos con zigurat.
- d) Templos y pirámides.



¿Cómo llamamos a los restos de los muertos en el Antiguo Egipto con el objetivo de preservar su cuerpo después de la muerte?

- a) Vampiro
- b) Momia
- c) Ninguno de los anteriores es correcto
- d) Zombi



Las tres fases del ciclo anual del trabajo de la tierra en el Antiguo Egipto eran...

- a) la siembra, luego la inundación y finalmente la cosecha
- b) la inundación, luego la siembra y finalmente la cosecha
- c) la inundación, luego la siembra y finalmente la cosecha
- d) la siembra, luego el tamizado y finalmente la cosecha



En el juicio de Osiris, si el corazón del difunto pesaba más que la pluma de la diosa Maat...

- | | |
|--|--|
| a) su corazón era arrojado a Ammyt, devorador de los muertos | b) se le recompensaba con la vida eterna |
| c) subía al cielo | d) se le castigaba al infierno |

El dios del sol era

- | | |
|-----------|----------|
| a) Rá | b) Isis |
| c) Osiris | d) Horus |


¿Qué son los jeroglíficos?

- a. Adornos que aparecían en las pirámides.
- b. Signos sagrados usados en la escritura.
- c. El nombre que se daba a los escribas.
- d. Pinturas en las paredes.

<input type="checkbox"/>
<input type="checkbox"/>
<input type="checkbox"/>
<input type="checkbox"/>

2)

Escribe el número que corresponda a cada rol social del día a día en el Egipto antiguo.



- | | | |
|-----------------|-------------------|----------------|
| 1. Esclavo | 6. Amas de casa | 11. Escriba |
| 2. Soldados | 7. Constructor | 12. Faraón |
| 3. Agricultores | 8. Escriba | 13. Arquitecto |
| 4. Comerciante | 9. Embalsamadores | |
| 5. Jefe militar | 10. Sacerdote | |

