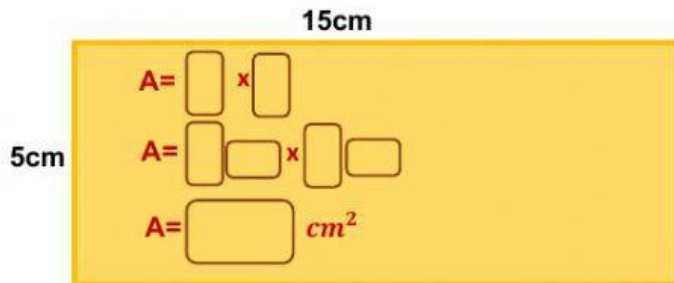
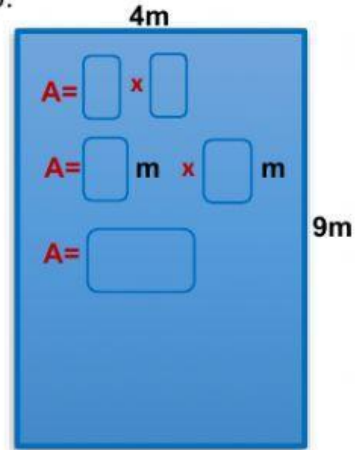
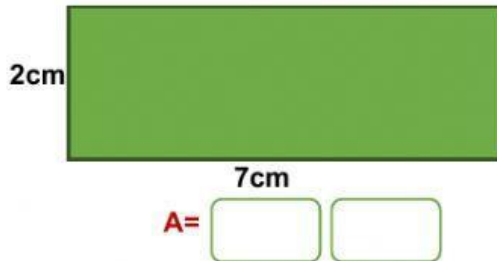
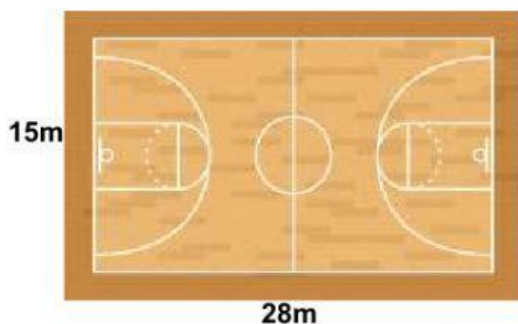


Área el Rectángulo

1. Completa hallando el área de cada rectángulo.



2. Juan está construyendo una cancha de baloncesto de las medidas que muestra la figura, ¿Cuál es el área de la cancha?



A= $140cm^2$

A= $420m^2$

A= $140m^2$

A= $420cm^2$

3. Marta quiere colocar alfombra en la sala de su casa, en un espacio rectangular de base 5m y altura 3m. ¿Cuántos metros cuadrados de alfombra debe comprar?



A= b x a

A= [] x []

A= [] []

R/ Marta debe comprar [] de alfombra.