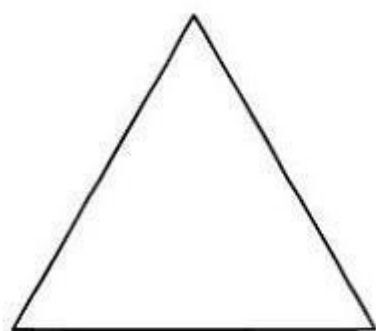
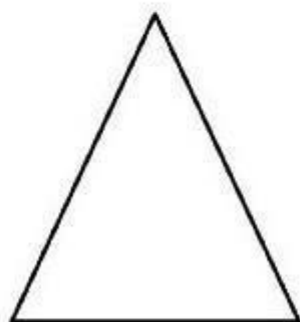


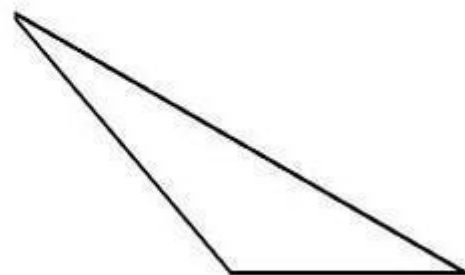
Considerando la clasificación de triángulos según sus lados, escribe debajo de cada uno de los siguientes casos de qué tipo de triángulo se trata: isósceles, escaleno o equilátero.



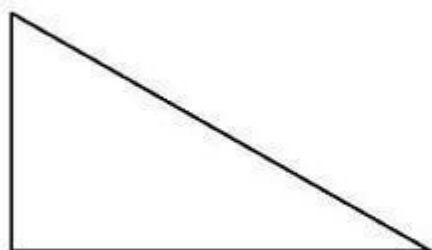
\_\_\_\_\_



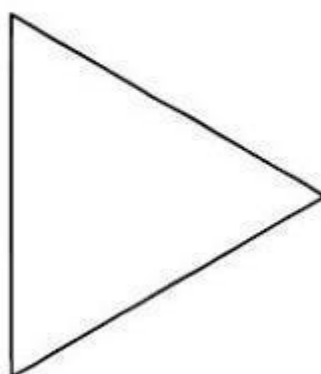
\_\_\_\_\_



\_\_\_\_\_



\_\_\_\_\_



\_\_\_\_\_

