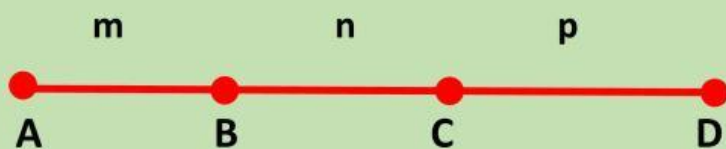




CONTEO DE SEGMENTOS

Problema 1.-

¿Cuántos segmentos observas en la siguiente figura?



De una parte: m; n; p

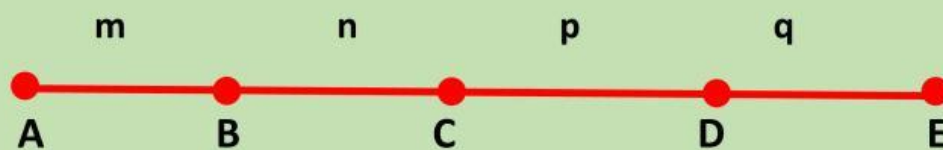
+

De dos partes: mn; np

De tres partes: mnp

Problema 2.-

¿Cuántos segmentos observas en la siguiente figura?



De una parte: m; n; p; q

+

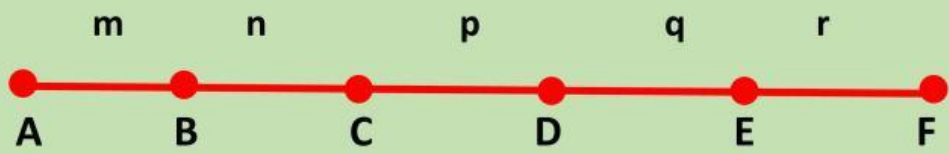
De dos partes: mn; np ; np

De tres partes: mnp; npq

De cuatro partes: mnpq

Problema 3.-

¿Cuántos segmentos observas en la siguiente figura?



De una parte: m; n; p; q; r

+

De dos partes: mn; np ; np; pr

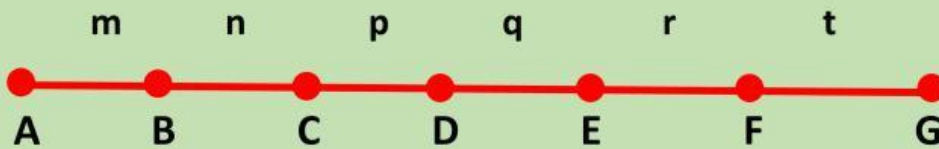
De tres partes: mnp; npq ; pqr

De cuatro partes: mnpq; mnpq

De cinco partes: mnpqr

Problema 4.-

¿Cuántos segmentos observas en la siguiente figura?



De una De dos De tres De cuatro De cinco De seis

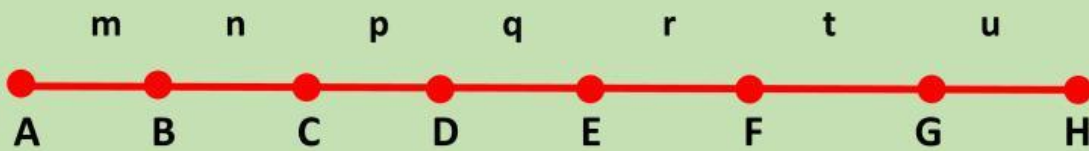
--	--	--	--	--	--

Total

--

Problema 5.-

¿Cuántos segmentos observas en la siguiente figura?



De una De dos De tres De cuatro De cinco De seis De siete

--	--	--	--	--	--	--

Total

--