

Fase a kelas 1

LKPD

LEMBAR KERJA PESERTA DIDIK

PENJUMLAHAN BILANGAN 1-10

Nama Kelompok : _____

Anggota Kelompok : _____

Kelas : 1 (Satu)

Semester : 1 (Satu)

Hari/Tanggal : Jum'at, 15 November 2024

Waktu : 20 Menit

Tujuan LKPD : Setelah mengerjakan LKPD

Peserta didik dapat memecahkan operasi Penjumlahan
Bilangan 1-10 menggunakan gambar



PETUNJUK KERJA :

1. Bacalah permasalahan berikut :

"Ibu mempunyai beberapa jenis gambar sayur, tetapi ibu tidak mengetahui berapa jumlah gambar sayur tersebut. Bantulah ibu dalam menghitung jumlah gambar sayur yang ada dan dituliskan bilangan yang tepat di dalam kotak Gambar kemudian jumlahkan bilangan tersebut pada operasi penjumlahan 1-10".

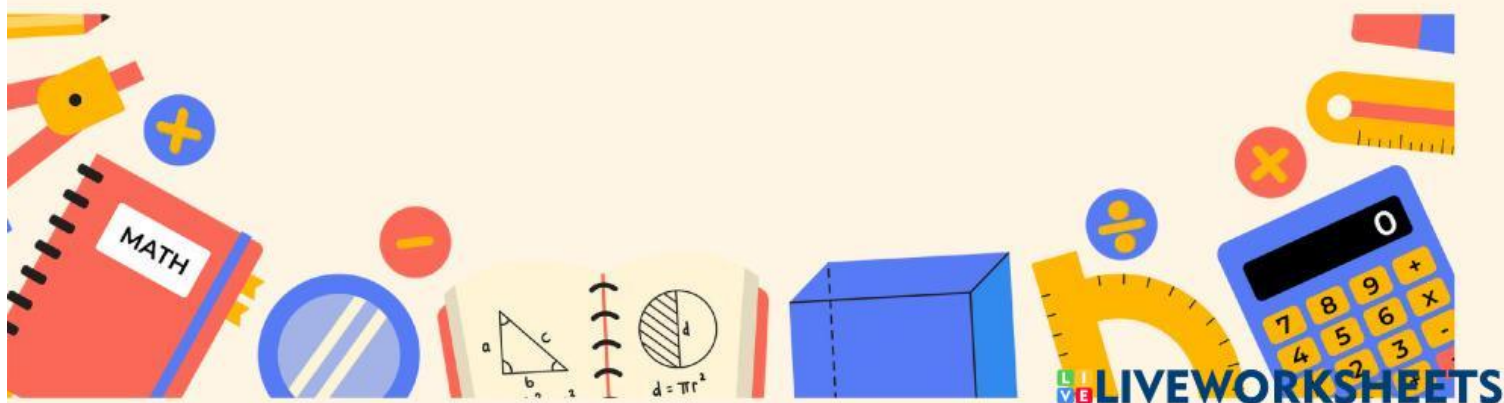
2. Duduklah dikelompok yang sudah ditentukan

3. Setiap kelompok menerima LKPD yang sudah disiapkan guru

4. Diskusikan dengan temanmu bagaimana cara menghitung jumlah gambar sayur Milik ibu dan tuliskan bilangan tepat di dalam kotak gambar kemudian jumlah bilangan tersebut pada operasi penjumlahan bilangan 1-10.

5. Masing-masing perwakilan kelompok mempersentasikan hasil kerja kelompok didepan kelas.

6. Perwakilan kelompok mempresentasikan hasil kerja kelompok secara klasikal
Berapakah jumlah gambar sayur milik ibu





PETUNJUK KERJA :

1. Bacalah permasalahan berikut :

"Ibu mempunyai beberapa jenis gambar sayur, tetapi ibu tidak mengetahui berapa jumlah gambar sayur tersebut. Bantulah ibu dalam menghitung jumlah gambar sayur yang ada dan tuliskan bilangan yang tepat di dalam kotak Gambar kemudian jumlahkan bilangan tersebut pada operasi penjumlahan 1-10".

2. Duduklah dikelompok yang sudah ditentukan

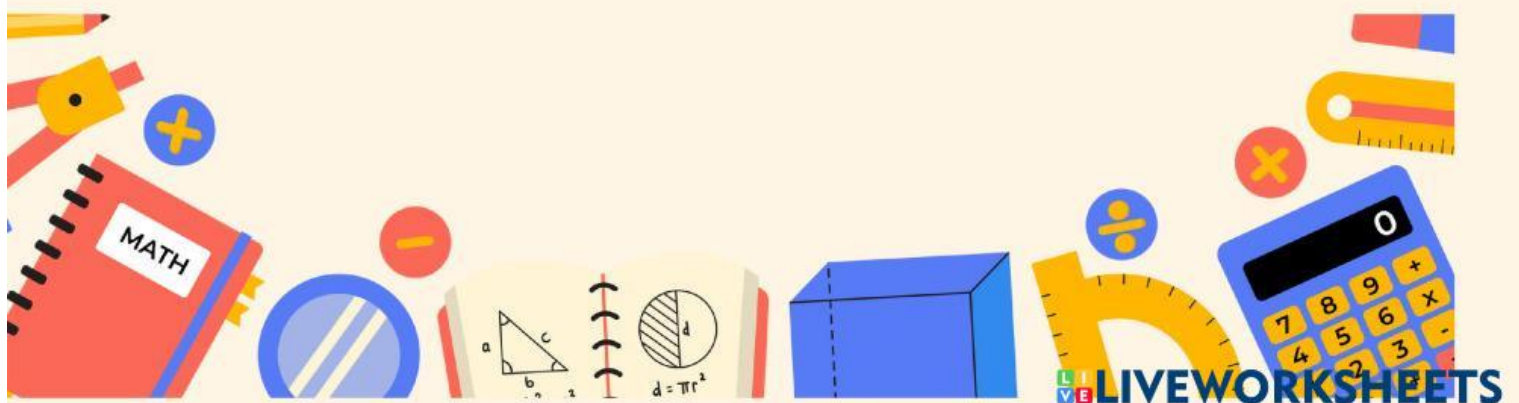
3. Setiap kelompok menerima LKPD yang sudah disiapkan guru

4. Diskusikan dengan temanmu bagaimana cara menghitung jumlah gambar sayur Milik ibu dan tuliskan bilangan tepat di dalam kotak gambar kemudian jumlah bilangan tersebut pada operasi penjumlahan bilangan 1-10.

5. Masing-masing perwakilan kelompok mempersentasikan hasil kerja kelompok didepan kelas.

6. Perwakilan kelompok mempresentasikan hasil kerja kelompok secara klasikal

Berapakah jumlah gambar sayur milik ibu



1. Terong



+

=

2. Tomat



+


=

3. Kol



+

=



4. Labu



+

=

5. Kentang



+

=

~Selamat Bekerja~

