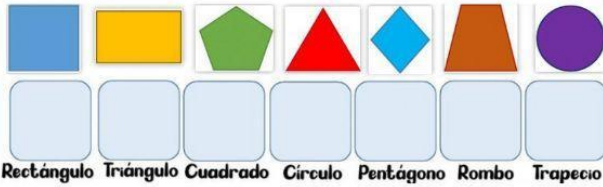


FIGURAS PLANAS & VAN HIELE

NIVEL 0

1. COLOCA CADA FIGURA PLANA EN SU LUGAR *Tu*



NIVEL 1

2.

¿Cuántos lados tiene cada figura? Escribe



NIVEL 2

3. CLASIFICA LOS TRIÁNGULOS

Según sus lados iguales



Según sus ángulos

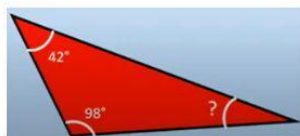
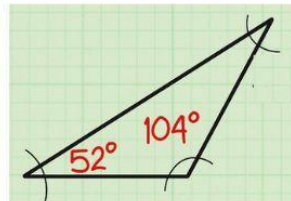
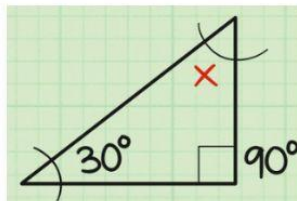


NIVEL 3



4.

Calcular lo que mide el ángulo desconocido de un triángulo sabiendo los dos restantes



NIVEL 4

Calcular el ángulo opuesto, lados y clasificar el triángulo Pitagórico según sus lados y ángulos, conociendo el ángulo de referencia $\theta = 37^\circ$ y su cateto adyacente es 4

Ángulo opuesto

Cateto Adyacente

Hipotenusa

T. Según Lados

T. Según Ángulos