





EVALUACIÓN

DINÁMICA

1. Observa y completa la siguiente tabla.

Figura	Nombre del polígono	Nº de lados
		
		

2. Escribe el nombre de los siguientes triángulos.

a)



b)



3. Dibuja dos cuadriláteros según se indique.

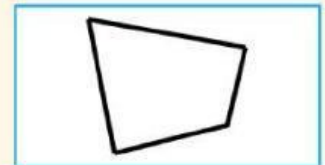

a)

Paralelogramo

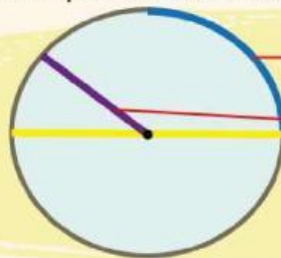


b)


Trapezoide



4. Escribe las partes que se indican.



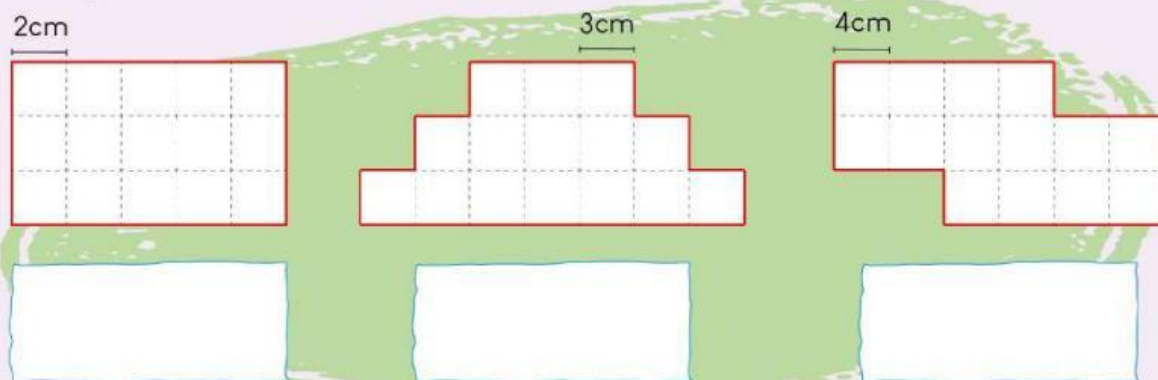
5. Calcula el área de la siguiente figura.



$$A = \boxed{} \text{ m}^2$$



1. Piensa dinámicamente y encuentra el perímetro de las siguientes figuras:



2. Halla los números que faltan y completa la tabla:

	9		24
	16	7	
47			
	67		34

3. Observa y completa las sucesiones numéricas:

