

## IDENTITAS PESERTA DIDIK

Nama:

Kelas:

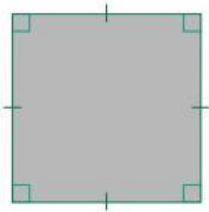
Nomor absen:



# Bangun Datar



Isikan jawaban yang benar pada kolom yang tersedia!

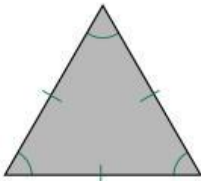


Nama Bangun Datar :

Jumlah Sisi :

Jumlah Sudut :

Jumlah Diagonal :

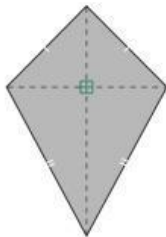


Nama Bangun Datar :

Jumlah Sisi :

Jumlah Sudut :

Jumlah Titik Sudut:

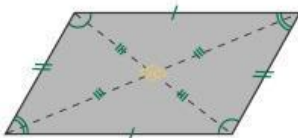


Nama Bangun Datar :

Jumlah Sisi :

Jumlah Sudut :

Jumlah Titik Sudut:



Nama Bangun Datar :

Jumlah Sisi :

Jumlah Sudut :

Jumlah Titik Sudut :

# MAKNA KOSAKATA

Temukan makna dari kosakata berikut!

Kawasan hutan yang dilindungi pemerintah  
(...)

Kunjungan ke suatu objek dalam rangka menambah pengetahuan  
(...)

Tanaman yang digunakan untuk hiasan  
(...)

Karyawisata  
(1)

Tanaman Biasa  
(2)

Hutan Lindung  
(3)

# RUMAH BERSIH DAN SEHAT

Pilihlah jawaban yang menurut anda benar!



## CIRI-CIRI RUMAH SEHAT

Saluran air mampet

Memiliki sumber air yang bersih

Memiliki bak sampah sementara

Tidak memiliki bak sampah

Halaman rumah banyak sampah

Memiliki jendela dan ventilasi

Tidak ada sampah dan kotoran

Memiliki halaman yang dan pekarangan yang bersih

Memiliki sumber air yang tercemar

Halaman rumah ditumbuhi tanaman

# MENARIK GARIS

Tariklah garis sesuai dengan nama bangun datar!



lingkaran



bintang



persegi panjang



segitiga



persegi

# VIDEO

Tontolah video berikut ini!

