

LATIHAN LIVEWORK SHEET

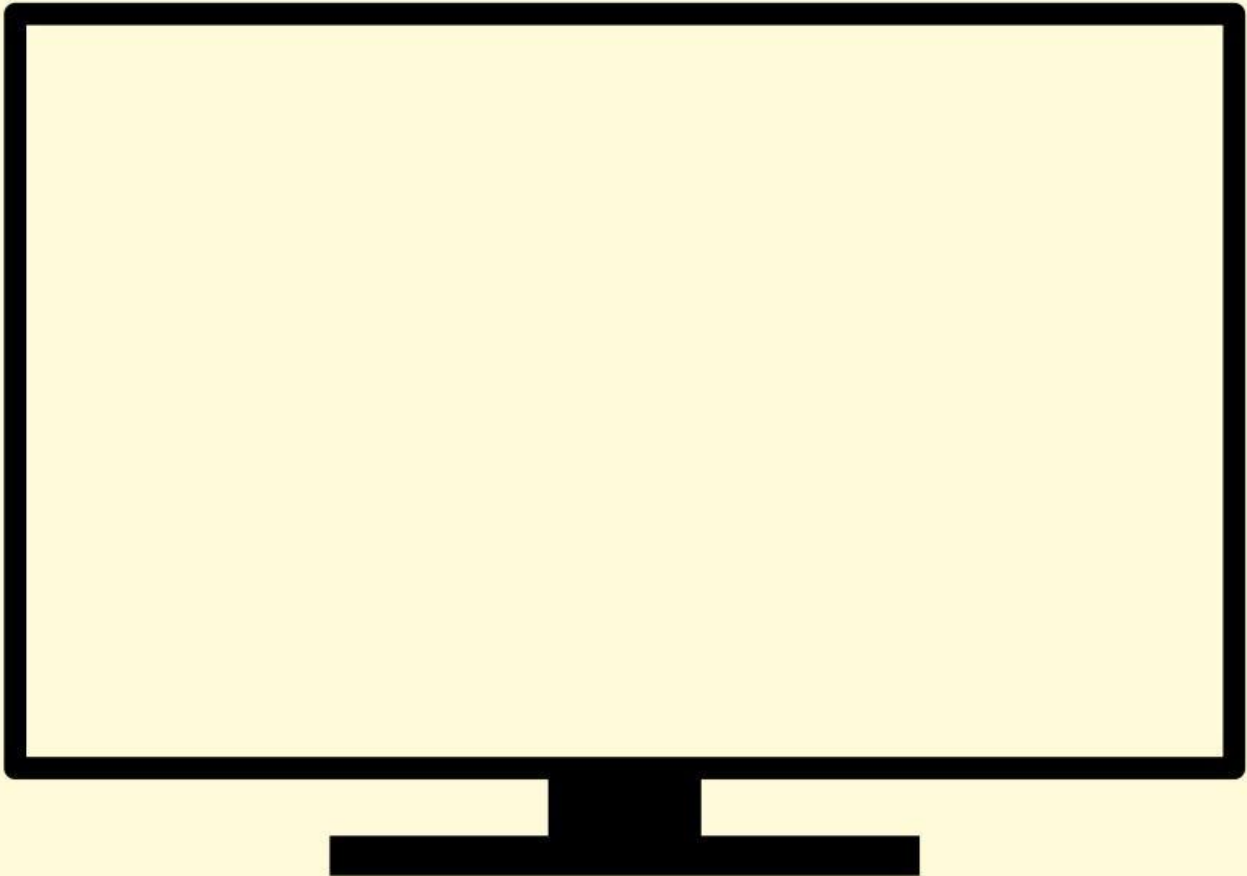


Nama : _____


Kelas : _____

Silakan klik tombol  untuk memutar musik

**Untuk pemahaman
silakan tonton
video berikut!**



Pilih nama buah yang sesuai



Apel

Stroberi

Jeruk



Apel

Stroberi

Jeruk

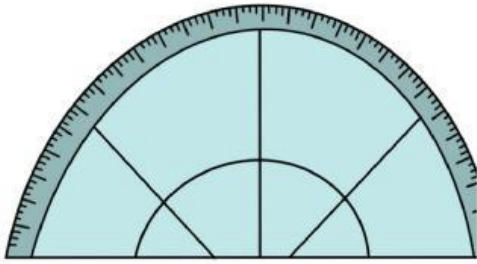


Apel


Stroberi

Jeruk

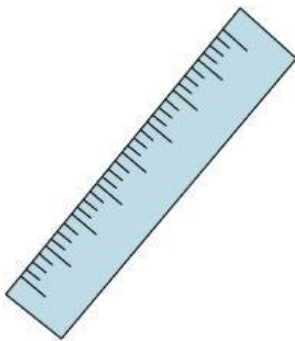
**jodohkan dengan benda yang
sesuai**



penggaris





jangka



busur derajat

**tempatkan dengan bangun
yang sesuai**



balok

prisma

kubus

limas



jawab pertanyaan di bawah ini dengan tepat!

$2 \times 2 = \dots$

$4 \times 5 = \dots$

$3 \times 4 = \dots$

$5 \times 5 = \dots$

Pilihan Ganda!

$2000.000 \times 0 = \dots$

A. 0

B. 1

C. 2

D. tidak tahu