

LKPD



Lembar Kerja Peserta Didik

Materi : Ciri-Ciri Makhluk
Hidup dan Lingkungannya

Nama :

Kelas :

Disusun oleh : RAHMAT DIANOOR



MARI MENCOCOKKAN GAMBAR DI BAWAH INI !



Bernapas

Ekskresi



Bergerak

Berkembang Biak




Lingkungan Hidup

Memerlukan Nutrisi



Tumbuh

Peka Terhadap Rangsangan







TEMPATKAN BAGIAN YANG SESUAI DENGAN TEMPATNYA

No	Makhluk Hidup	Lingkungan Tinggalnya
1		Sungai
2	Singa	
3	Manusia	
4	Lumba-Lumba	
5	Pedesaan	
6	Laut	Hutan
7		Ikan Gabus





Jawablah Uraian Di Bawah Ini !



Bagaimana Pendapatmu Harimau dapat beradaptasi di hutan!



Bagaimana Pendapatmu Cara Manusia Beradaptasi Terhadap Lingkungannya!

