

CLASIFICA TRIÁNGULOS



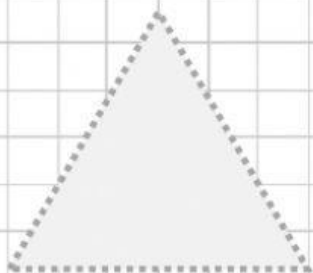
A continuación aparecen diferentes triángulos. Coloca el nombre del tipo de triángulo según su clasificación. Puedes utilizar cualquier instrumento de medición para comprobar sus características.

Equilátero (morado): todos sus lados miden lo mismo.

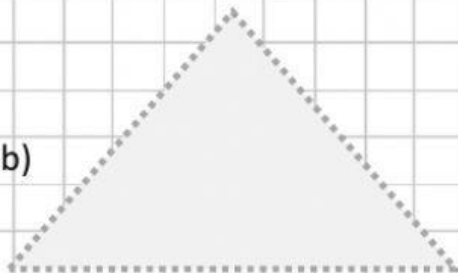
Isósceles (anaranjado): solo 2 de sus lados son iguales, y uno de ellos mide diferente.

Escaleno (verde): ninguno de sus lados miden lo mismo, todos son diferentes.

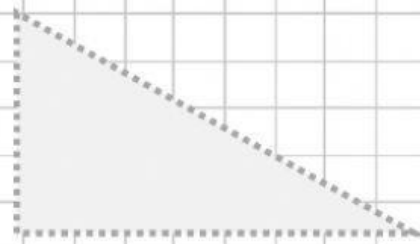
a)



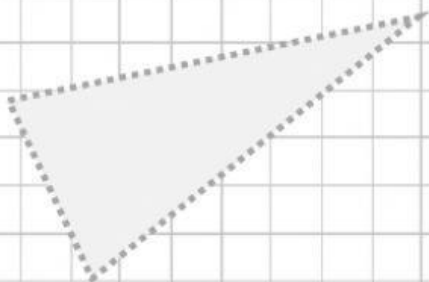
b)



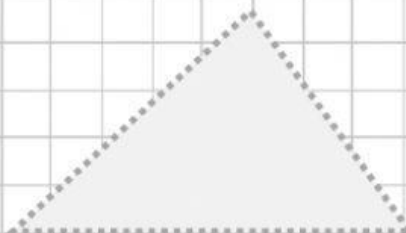
c)



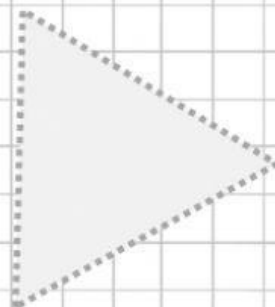
d)



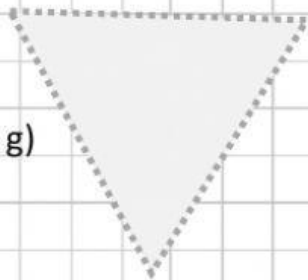
e)



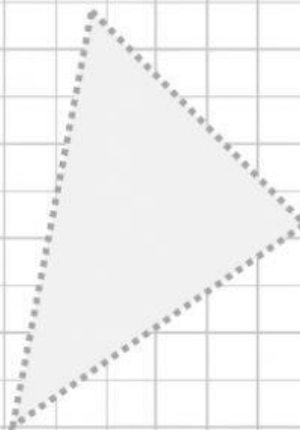
f)



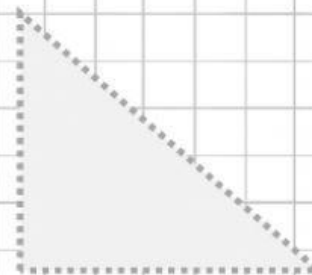
g)



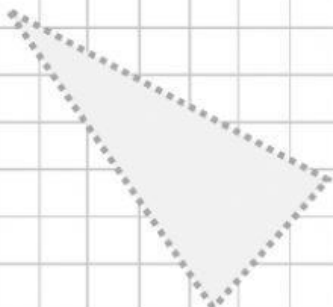
h)



i)



j)



k)



l)

