


Nivel 4

Propón dos razones para cada una de las imágenes y luego explícalas.

a.

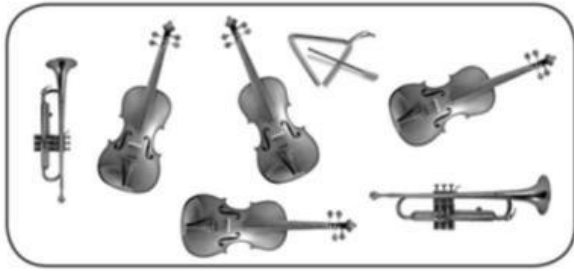


Razón 1

Razón 2

Nivel 4

b.



Razón 1

Razón 2

Nivel 5

Conjunto 1



Conjunto 2



Analiza y responde:

a. ¿En qué conjunto es mayor la razón de la cantidad de piezas blancas respecto del total?

[illegible]

b. ¿En cuál es menor la razón de la cantidad de piezas negras respecto del total?


LIVEWORKSPACE

8. Relaciona cada razón de la izquierda con su posible representación de la derecha. Usa líneas.

5 : 6

○

○



1 : 6

○

○



8 : 1

○

○



3 : 5

○

○

