

Nama :
 Kelas/Program :
 Mata pelajaran :



Petunjuk :

1. Kerjakan E-LKPD berikut dengan secara individu dengan *prediksi, observasi, explain*
2. klik jawaban dengan lengkap dengan soal yang sistematis , karena setiap langkah jawaban akan di nilai

A. Perhatikan Video dan Materi PPT di bawah ini

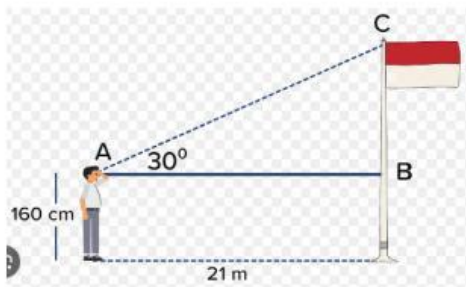


B. Pilihlah Jawaban yang benar dari soal Pilihan Ganda berikut

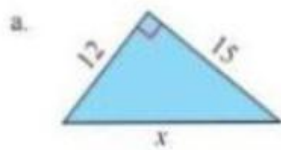
1. Diketahui $\sin \alpha = \frac{3}{5}$,maka $\operatorname{cosec} \alpha = \dots$

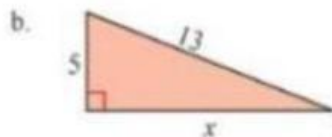
- a. $\frac{4}{3}$ b. $\frac{4}{5}$ c. $\frac{3}{4}$ d. $\frac{5}{3}$ e. 1

C. Pilihlah Jawaban yang benar dari gambar dibawah ini dengan "Klik"



D. Buatlah garis ke jawaban yang Benar





E. Dengarkan suara dari audio Berikut ini