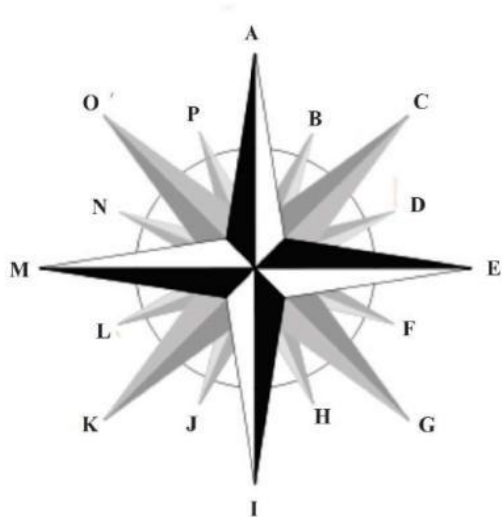


A. Sudut Arah Istimewa

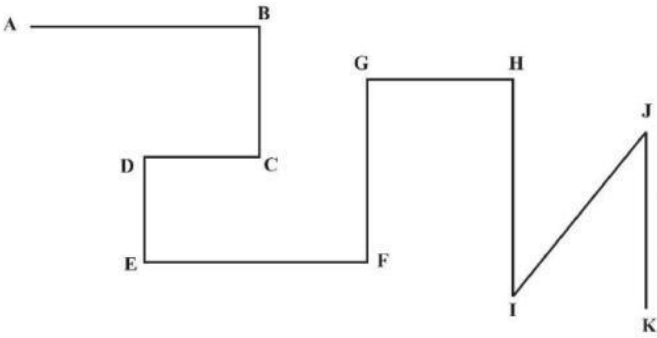


No	Arah	Nama Sudut Arah Istimewa
1	A	
2	B	
3	C	
4	D	
5	E	
6	F	
7	G	
8	H	
9	I	
10	J	
11	K	
12	L	
13	M	
14	N	
15	O	
16	P	

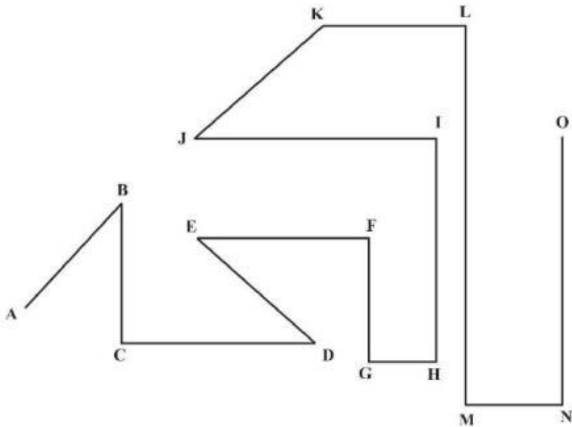
B. Kelompokkanlah sudut arah istimewa di bawah ini dengan cara mencentang sesuai kolom !

Arah Primer	Arah Sekunder	Arah Tersier
Barat	Barat	Utara Timur Laut
Barat Barat Daya	Selatan	Barat Barat Laut
Barat Barat Laut	Tenggara	Selatan Menenggara
Barat Daya	Timur Menenggara	Barat
Barat Laut	Utara	Selatan Barat Daya
Selatan	Utara Timur Laut	Barat Laut
Selatan Barat Daya	Barat Barat Daya	Timur Menenggara
Selatan Menenggara	Barat Laut	Utara Barat Laut
Tenggara	Selatan Menenggara	Barat Barat Daya
Timur	Timur Laut	Timur Timur Laut
Timur Laut	Timur Timur Laut	Timur
Timur Menenggara	Barat Barat Laut	Timur Laut
Timur Timur Laut	Barat Daya	Barat Daya
Utara	Timur	Selatan
Utara Barat Laut	Utara Barat Laut	Utara
Utara Timur Laut	Selatan Barat Daya	Tenggara

C. Lengkapilah tabel di sebelah kanan sesuai gambar di sebelah kiri



No	Arah	Azimuth	Arah Orientasi
1	A-B		
2	B-C		
3	C-D		
4	D-E		
5	E-F		
6	F-G		
7	G-H		
8	H-I		
9	I-J		
10	J-K		



No	Arah	Azimuth	Arah Orientasi
1	A-B		
2	B-C		
3	C-D		
4	D-E		
5	E-F		
6	F-G		
7	G-H		
8	H-I		
9	I-J		
10	J-K		
11	K-L		
12	L-M		
13	M-N		
14	N-O		