

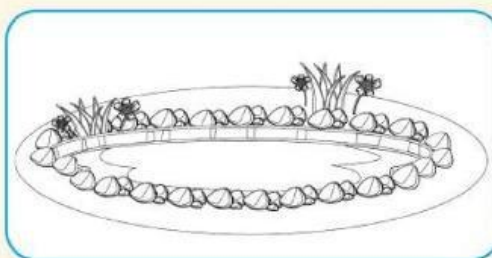


## EVALUACIÓN

## DINÁMICA

1. Escribe los números del 25 al 30.

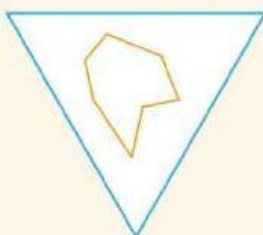

2. Arrastra al pato en el interior del estanque y el gusano en la frontera.



3. ¿Cuál es más ancho? Rodea la opción correcta.



4. ¿Dónde está la línea poligonal abierta? Subraya la opción correcta.





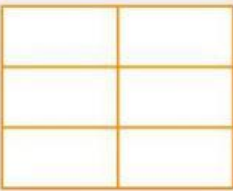

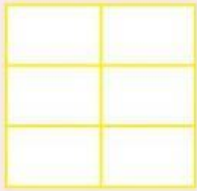





En el interior del triángulo

En el interior del cuadrado





En el exterior del triángulo y el cuadrado



1. Observa dinámicamente, ubica los elementos y suma.

 = 16	  	
 = 22		
 = 4		
 = 10		
 = 25		
 = 13		

2. La ruta que tiene los resultados ordenados de mayor a menor conduce a nuestro amigo "Fido" hasta la casa. Encuentra el camino, píntalo y coloca los resultados en el cuadro.



12