


LKPD

MATEMATIKA

Fase A Kelas 1

Penjumlahan dan Pengurangan



Nama

kelompok :

Anggota

Kelompok :



LKPD

MATEMATIKA

Tujuan LKPD

Setelah menyelesaikan LKPD peserta didik dapat menentukan penjumlahan dan pengurangan dalam kehidupan sehari-hari



LKPD

MATEMATIKA


Petunjuk LKPD

1. Mulailah bekerja dengan Basmallah
2. Tulis nama kelompok dan nama anggota kelompok mu pada halaman pertama LKPD dengan benar.
3. Pada LKPD 1 jawablah soal penjumlahan dan pengurangan dengan benar
4. Pada LKPD 2 hubungkan soal penjumlahan dan pengurangan dengan jawaban tepat.
5. Pada LKPD 3 Isilah teka-teki silang penjumlahan dan pengurangan berikut dengan jawaban tepat.
6. Periksa kembali jawaban yang telah di isi dengan teliti.
7. Tekan FINISH jika sudah selesai mengerjakan LKPD




LKPD 1

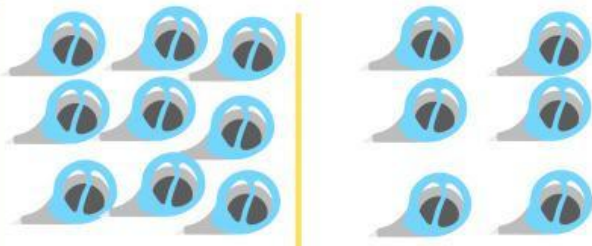
**Berikan jawaban yang benar dari penjumlahan dan pengurangan berikut !
Selamat mengerjakan !**



$$4 + 5 = \text{-----}$$



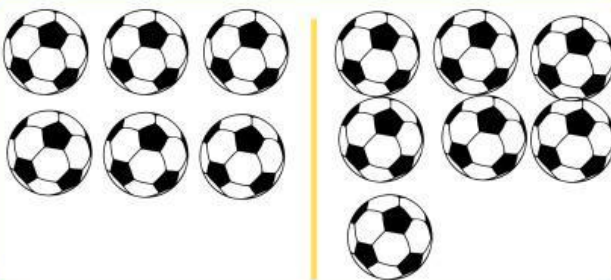
$$17 - 3 = \text{-----}$$



$$9 + 6 = \text{-----}$$



$$12 - 3 = \text{-----}$$



$$6 + 7 = \text{-----}$$



$$19 - 4 = \text{-----}$$

LKPD 2

**Hubungkan soal penjumlahan dan pengurangan dengan jawaban tepat. !
Selamat mengerjakan !**

$7 + 8 =$



17

$12 + 7 =$



13

$15 + 2 =$



15

$18 - 5 =$



16


$20 - 4 =$



19

LKPD 3

**Isilah teka-teki silang penjumlahan dan pengurangan berikut dengan jawaban tepat. !
Selamat mengerjakan !**



menurun

1. Ayah memetik 18 buah mangga, diberikan kepada Adit 9 buah. Berapa sisa buah mangga ayah sekarang ?
2. Ada 13 orang guru yang sedang rapat di kantor, kemudian 6 guru permisi untuk ke kelas. Berapa sisa guru yang ada di kantor?

mendatar

1. Di lapangan ada 6 anak bermain bola kemudian datang 6 anak lagi berapa jumlah anak di lapangan sekarang ?
2. Ibu mempunyai 15 kue pukis, dibeli lagi 3 kue pukis. Berapa Jumlah kue pukis ibu sekarang ?