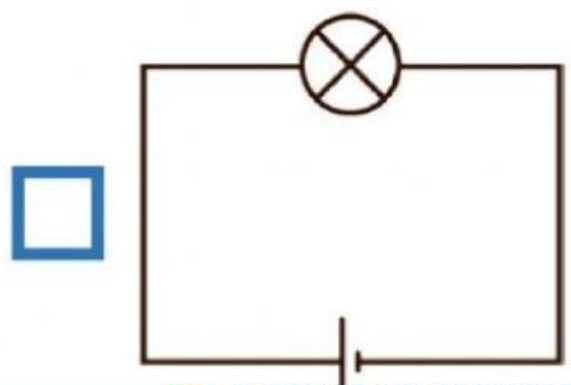
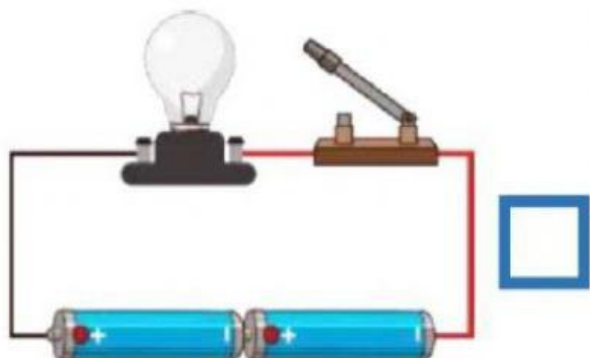
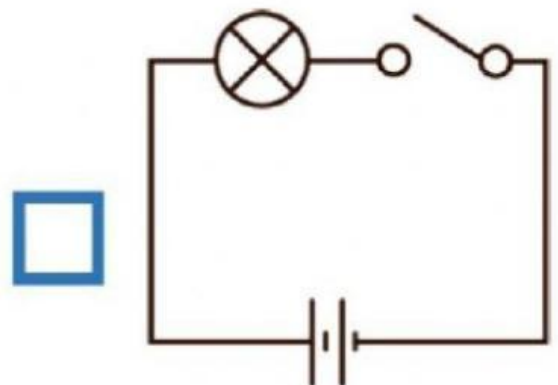
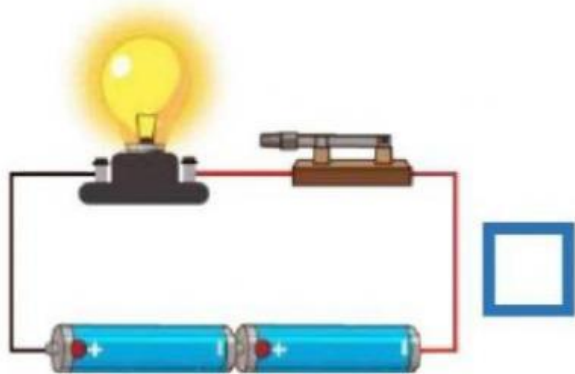
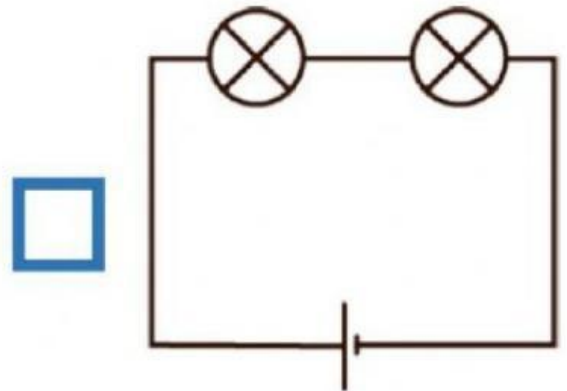
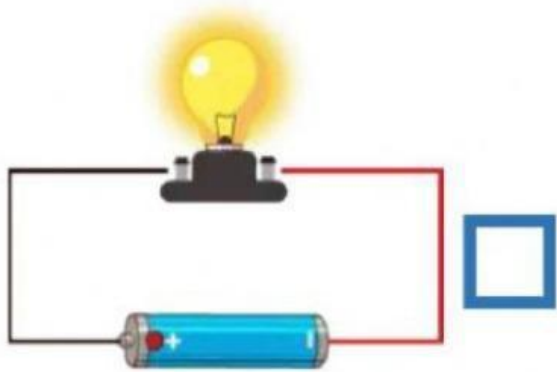
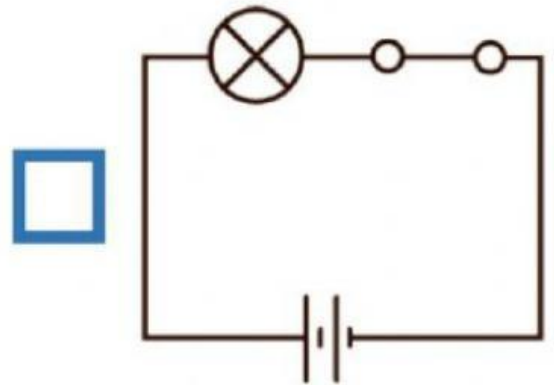
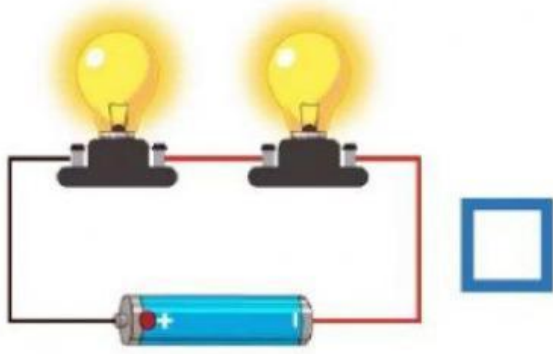


คำชี้แจง : ให้นักเรียนโยงเส้นจับคู่สัญลักษณ์แสดงส่วนประกอบของวงจรไฟฟ้าให้ถูกต้อง



คำชี้แจง : ให้นักเรียนตอบคำถามดังต่อไปนี้ให้ถูกต้อง

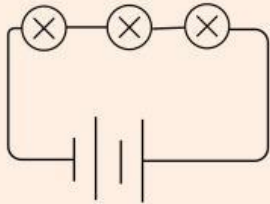
1. จากภาพที่กำหนดให้มีเซลล์ไฟฟ้าจำนวนกี่เซลล์



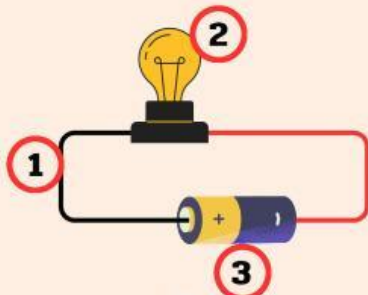

2. จากภาพที่กำหนดให้เป็นการใช้สัญลักษณ์แสดงถึงสิ่งใด



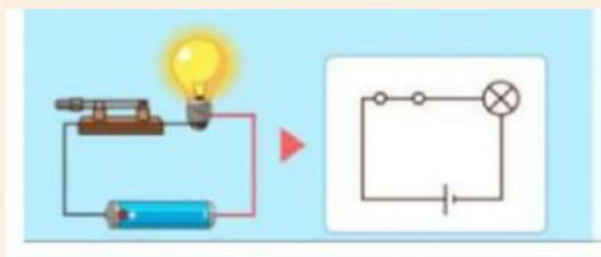

3. จากภาพที่กำหนดให้มีอุปกรณ์ไฟฟ้าที่ตัว และมีเซลล์ไฟฟ้าจำนวนกี่เซลล์




4. จากภาพที่กำหนดให้หมายเลขใดเป็นตัวนำไฟฟ้า




5. หากต่อวงจรไฟฟ้าครบวงจรและเครื่องใช้ไฟฟ้าสามารถทำงานได้เรียกว่า




6. หากต่อวงจรไฟฟ้าไม่ครบวงจร โดยปลดสายไฟฟ้าเส้นใดเส้นหนึ่งออกหรือยกขึ้น และเครื่องใช้ไฟฟ้าไม่สามารถทำงานได้เรียกว่า

