

LEMBAR KERJA PESERTA DIDIK

LKPD

MATEMATIKA



NAMA :

KELAS :

NAMA KELOMPOK

- 1.
- 2.
- 3.
- 4.
- 5.

MATERI

MATEMATIKA: PENGUKURAN PANJANG DAN BERAT

TUJUAN LKPD

**1.MELALUI MENERJAKAN LKPD PESERTA DIDIK
PAHAM MENGUKUR PANJANG BENDA
MENGUNAKAN SATUAN BAKU DAN HUBUNGAN
ANTAR SATUAN BAKU PANJANG**

**2.MELALUI MENERJAKAN LKPD PESERTA DIDIK
PAHAM MENGENAI PENGUKURAN BERAT BENDA
DAN HUBUNGAN ANTAR SATUAN BAKU BERAT**

PETUNJUK Pengerjaan

- 1. BERDOALAH SEBELUM Mengerjakan LKPD INI**
- 2. ISIKAN DATA DIRI DENGAN BENAR**
- 3. ISIKAN DATA KELOMPOK DENGAN BENAR**
- 4. BACALAH PETUNJUK Pengerjaan DENGAN CERMAT**
- 5. BACALAH PERINTAH Pengerjaan DENGAN CERMAT**
- 6. TANYAKAN HAL YANG KURANG PAHAM KEPADA GURU**
- 7. SUNGGUH- SUNGGUHLAH DALAM Mengerjakan LKPD**
- 8. GUNAKAN WAKTU DENGAN SEBAIK BAIKNYA DALAM Mengerjakan LKPD**

SELAMAT Mengerjakan

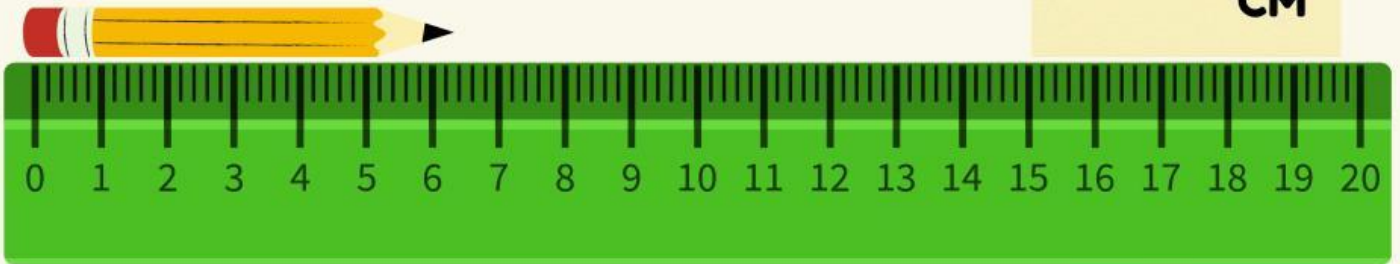
PENGUKURAN PANJANG

AYO MENENTUKAN!

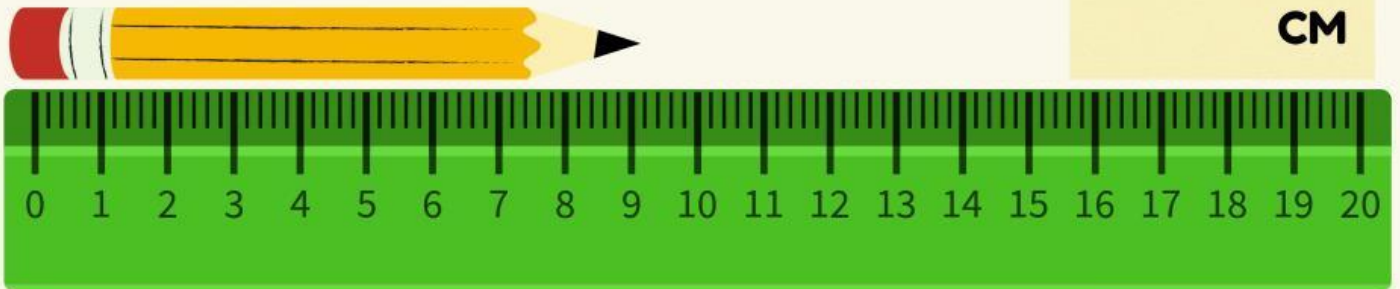
PERHATIKAN GAMBAR SEBUAH PENSIL DAN PENGGARIS BERIKUT INI !

TENTUKANLAH BERAPA CENTIMETER UKURAN PANJANG PENSIL PADA GAMBAR DI BAWAH INI!

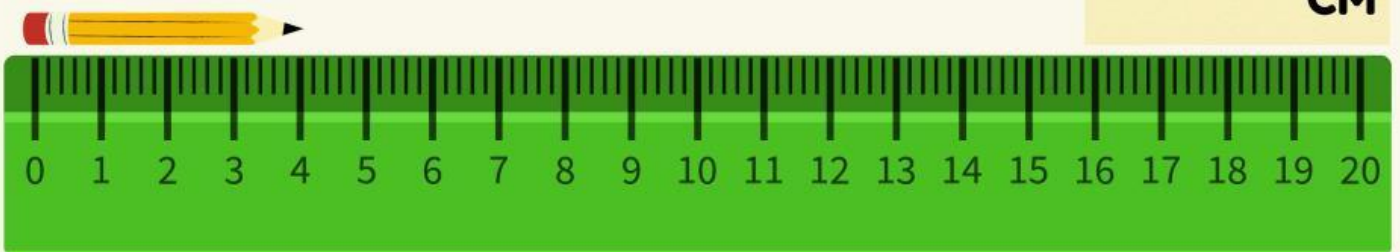
CM



CM



CM



PENGUKURAN PANJANG

AYO MEMASANGKAN!

PERHATIKAN GAMBAR BEBERAPA ALAT UKUR BERIKUT INI !

PASANGKANLAH ALAT UKUR BERIKUT DENGAN TEKS YANG TEPAT!

SITI DIMINTA UNTUK MENGUKUR
PANJANG PULPEN. ALAT UKUR YANG
SESUAI YANG DI GUNAKAN SITI
IALAH



IBU INGIN MENJAHIT BAJU
.SEBELUM MEMOTONG KAIN IBU
MENGUKUR PANJANG KAIN
MENGUNAKAN



PAMAN INGIN MENJUAL TANAHNYA.
SEBELUM DI JUAL PAMAN INGIN
MENGUKUR TANAH NYA
MENGUNAKAN



PENGUKURAN BERAT

AYO MENGUBAH!

PERHATIKAN GAMBAR BUAH YANG SEDANG BERADA DALAM TIMBANGAN!

BUAH- BUAHAN TERSEBUT DI TIMBANG MENGGUNAKAN SATUAN BAKU KG, UBAHLAH HASIL TIMBANGAN DARI BUAH-BUAHAN TERSEBUT DARI SATUAN KG KE SATUAN G DENGAN TEPAT!



_____GRAM



_____GRAM



_____GRAM



_____GRAM