

Lembar Kerja Peserta Didik

L K P D

Tema : Klasifikasi Sumber
Daya Alam





Petunjuk Belajar



1. Sebelum memulai kegiatan kali ini, jangan lupa berdoa kepada Tuhan Yang Maha Esa.
2. Pastikan Ananda telah membaca materi sesuai Indikator Pencapaian Kompetensi pada pertemuan kali ini.
3. Agar pemahamanmu semakin mantap, sangat dianjurkan untuk membaca materi tersebut dari referensi selain buku paket yang Ananda miliki.

4. Lakukan dan selesaikan tugas pada LKPD ini dengan kreatif dan kerja keras
5. Sebagai pribadi yang disiplin dan penuh rasa tanggung jawab, maka kumpulkan tugas ini sesuai dengan jadwal yang telah disepakati bersama guru.
6. Setelah Ananda menyelesaikan tugas di setiap kegiatan, jangan lupa untuk mengaklarnya dengan mengucapkan syukur sesuai dengan agamanya masing-masing.



Alat Dan Bahan

1. Perlengkapan alat tulis
2. Buku paket Geografi Kelas XI
3. Ponsel pintar dan atau laptop (komputer)
4. Alat musik
5. Kamera atau alat perekam lainnya
6. Media sosial berupa Instagram

LINK VIDIO YOUTUBE KLASIFIKASI
SUMBER DAYA ALAM



SOAL-SOAL LATIHAN

Pilihan Ganda




1. Sumber daya alam yang dapat diperbarui adalah sumber daya alam yang dapat didaur ulang, dihasilkan kembali, atau selalu tersedia di alam. mana di yang termasuk ke dalam sumber daya ini....

- A. Tumbuhan, hewan dan air
- B. Minyak, gas alam dan batu bara
- C. Matahari, angin dan emas
- D. Angin, tanah, dan matahari
- E. A dan D benar

2. Sumber daya ruang adalah sumber daya...

- A. ruang lahan terbuka yang dapat di manfaatkan lahannya
- B. Keruangan yang bermanfaat bagi kehidupan
- C. Alam yang berupa ruang atau tempat hidup, di mana terdapat berbagai sumber daya alam yang penting bagi kehidupan manusia.
- D. Salah semua
- E. Benar semua





3. Sumber daya alam dapat di bedakan berdasarkan.....

- A. bentuk, pemanfaatan, dan keuntungannya bagi manusia
- B. Potensi, sifat dan jenis
- C. Berdasarkan kegunaannya
- D. Berdasarkan bentuk sumber daya alamnya
- E. Berdasarkan klasifikasi para ilmuwan

4. Sumber daya alam materi adalah sumber daya alam yang di manfaatkan dalam bentuk fisiknya. Di bawah ini mana yang termasuk sumber daya alam materi.....

- A. Karet, air dan tanah
- B. Lahan terbuka untuk perkebunan
- C. Flora, fauna dan manusia
- D. Matahari, tanah dan angin
- E. Kayu, besi, emas dan batu





5. Sumber daya alam energi adalah sumber daya alam yang di manfaatkan yaitu berupa energi nya. Yang termasuk sumber daya alam energi adalah.....

- A. Angin, batu bara dan tanah
- B. listrik, matahari dan angin
- C. Api dan air
- D. Air terjun, batu bara dan gas bumi
- E. Gas bumi, tanah dan batu bara

essay

1. Jelaskan apa yang di maksud dengan sumber daya alam?



2. Menurut kalian apakah sumber daya alam bermanfaat untuk kehidupan manusia. Jelaskan mengapa?

3. Perhatikan gambar di bawah ini mana yang termasuk ke dalam sumber daya alam yang dapat di perbaharui? Berilah tanda centang pada jawaban yang kalian pilih!





**SELAMAT MENGERJAKAN
SEMANGAT!**

