

# Lembar Kerja Peserta Didik (LKPD)

Materi : Perangkat Keras Komputer

Mata Pelajaran : Informatika

Kelas : ..... Nama Kelompok : .....

Anggota Kelompok :

1. ....
2. ....
3. ....
4. ....
5. ....
6. ....
7. ....
8. ....

## A. Aktivitas Mencari Informasi

Kalian akan melakukan pencarian informasi tentang Perangkat keras komputer di buku, internet dan sumber pendukung lain nya.

## B. Apa Yang Diperlukan

Komputer/ponsel yang telah terpasang sistem operasi dan browser

## C. Apa yang dilakukan

1. Gunakan buku paket pelajaran atau internet sebagai sumber informasi.
2. Masukkan kata kunci yang spesifik yang berkaitan dengan apa yang akan di diskusikan.
3. Pilih lah halaman/situs yang di rekomendasikan oleh guru atau situs lain yang menurut kalian relevan dengan apa yang akan di diskusikan

<https://tinyurl.com/Bahan-bacaan-hardware> <https://bsi.today/pengertian-perangkat-keras-hardware/>

<https://www.advernesia.com/blog/komputer/pengertian-perangkat-keras-komputer-dan-fungsinya/>

<https://cloudstorage.co.id/blog/pengertian-fungsi-dan-jenis-jenis-hardware/>

4. Catatlah hal-hal yang penting yang berkaitan dengan apa yang akan di diskusikan pada kolom yang sudah di sediakan.



5. Pastikan semua anggota kelompok aktif berpartisipasi dalam diskusi.











6. Tuliskan kesimpulan dari hasil diskusi lalu presentasikan di depan kelompok lain.





7. Mintalah tanggapan dari kelompok lain ataupun dari guru.

## D. Soal

1. Diskusikan dalam kelompok,kategorikan perangkat keras tersebut dalam kelompok input, prosesor, output, atau storage serta deskripsikan secara singkat fungsi dari masing perangkat tersebut.

No	Foto Perangkat	Nama Perangkat	Fungsi	Kategori (Berilah Tanda ) pada Gambar yang Sesuai			
				Input	Pemrosesan	Output	Storage
1							
2							

No	Foto Perangkat	Nama Perangkat	Fungsi	Kategori (Berilah Tanda ) pada Gambar yang Sesuai			
				Input	Pemrosesan	Output	Storage
3							
4							
5							
6							
7							
8							
9							
10							
11							
12							

No	Foto Perangkat	Nama Perangkat	Fungsi	Kategori (Berilah Tanda ) pada Gambar yang Sesuai			
				Input	Pemrosesan	Output	Storage
13							
14							
15							
16							

## 2. Perhatikan proses cetak dokumen pada gambar dibawah ini



Jelaskan perangkat apa saja yang ada dan jelaskan proses tersebut bisa terjadi ?!

Pilihlah gambar pada kotak pertama dan sesuaikan dengan komponen yang diminta



1. Monitor
2. Keyboard
3. Mouse
4. Printer
5. Speaker

6. Headset
7. Projector