

ESCOLA:

NOME:

PROF.:

DATA:

3º
ANO

ATIVIDADE DIAGNÓSTICA - MATEMÁTICA

01. LIGUE CORRETAMENTE:

Sou o sucessor de 23

57

Fico entre 78 e 80

24

5 dezenas + 7 unidades

48

Sou o antecessor de 49

79

02. JÚLIA FEZ UMA PESQUISA COM SEUS AMIGOS SOBRE O SABOR DE SUCO QUE ELES PREFERIAM. ELA COLOCOU O RESULTADO NO GRÁFICO ABAIXO:



O SABOR PREFERIDO DOS AMIGOS DE JÚLIA É:

Morango

Abacaxi

Manga

Goiaba

03. EM UMA GINCANA ESPORTIVA O RESULTADO FINAL DE PONTOS FOI ESTE. ESCOLHA O COMPETIDOR QUE FICARÁ EM PRIMEIRO LUGAR.



04. OBSERVE O DESENHO E RESPONDA.



O PESO DA CAIXA QUE O MENINO CARREGA É:

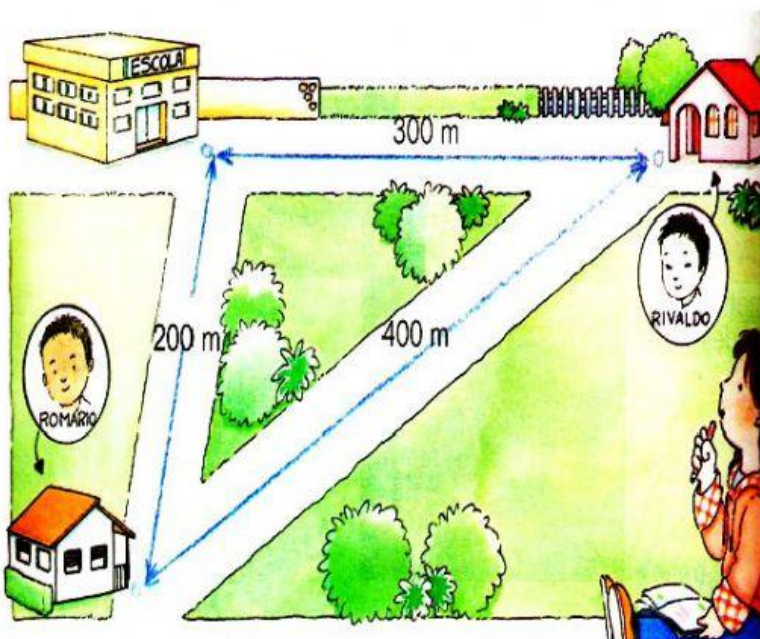
65 kg

30 kg

35 kg

5 kg

05. OBSERVE O DESENHO E RESPONDA. SE ROMÁRIO PASSAR PELA CASA DO RIVALDO PARA IREM À ESCOLA JUNTOS, ELE VAI ANDAR:



700 m

300 m

200 m

40 m

06. NA CARTEIRA DE MAMÃE TEM TODAS ESSAS CÉDULAS E MOEDAS. QUANTO DINHEIRO MAMÃE TEM AO TODO?



R\$ 10,00

R\$ 11,00

R\$ 11,50

R\$ 12,00

07. ANDRÉ, PRISCILA, BRUNO E JULIANA ESTAVAM JOGANDO DE BILA. ELES CONTARAM A QUANTIDADE DE BILAS DE CADA UM NO COMEÇO DO JOGO E TAMBÉM NO FINAL. ANDRÉ ANOTOU OS NÚMEROS EM UMA TABELA:

| CRIANÇAS | COMEÇARAM O JOGO COM | TERMINARAM O JOGO COM |
|----------|----------------------|-----------------------|
| ANDRÉ | 33 | 45 |
| PRISCILA | 26 | 32 |
| BRUNO | 35 | 20 |
| JULIANA | 30 | 28 |

APÓS O FINAL DO JOGO, QUANTAS BILAS ANDRÉ E PRISCILA TINHAM JUNTOS?










45

77

32

07

08. A TABELA MOSTRA PRÊMIOS QUE AINDA PODEM SER ESCOLHIDOS EM UM BINGO. CÉZAR ESCOLHEU OS QUE TÊM AS SEGUINTE LOCALIZAÇÕES: **C5** E **D2**. OS PRÊMIOS ESCOLHIDOS POR CÉZAR SÃO:

| | 1 | 2 | 3 | 4 | 5 | 6 | 7 |
|---|---|---|---|---|---|---|---|
| A |  | | | | |  | |
| B | | | |  | |  | |
| C | | |  | |  | | |
| D | |  |  | | | |  |

Bicicleta e Bola

Bicicleta e Calculadora

Bola e Dado

Calculadora e Carrinho