

Nama: _____

Kelas: _____

Teknologi di Kehidupan

Berilah tabel di bawah ini dengan tanda centang sesuai dengan gambar dan pernyataan yang benar!



Pulpen

Teknologi Sederhana

Teknologi Rumit

Teknologi Listrik


Teknologi Tanpa Listrik

Teknologi Masa Lalu


Teknologi Masa Kini



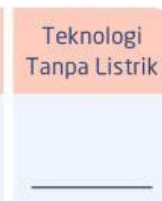
Teknologi Sederhana



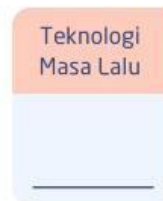
Teknologi Rumit



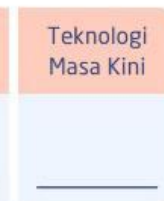
Teknologi Listrik



Teknologi Tanpa Listrik



Teknologi Masa Lalu



Teknologi Masa Kini



Ponsel Pintar



Gunting

Teknologi Sederhana

Teknologi Rumit

Teknologi Listrik

Teknologi Tanpa Listrik

Teknologi Masa Lalu

Teknologi Masa Kini




Teknologi Sederhana



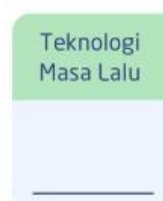
Teknologi Rumit




Teknologi Listrik



Teknologi Tanpa Listrik



Teknologi Masa Lalu



Teknologi Masa Kini



Radio



Penanak Nasi

Teknologi Sederhana

Teknologi Rumit

Teknologi Listrik

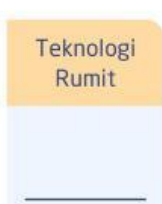
Teknologi Tanpa Listrik

Teknologi Masa Lalu

Teknologi Masa Kini



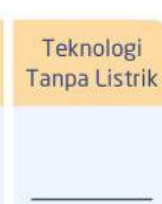
Teknologi Sederhana



Teknologi Rumit



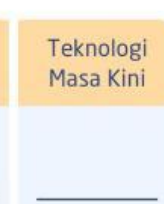
Teknologi Listrik



Teknologi Tanpa Listrik



Teknologi Masa Lalu



Teknologi Masa Kini



Sepeda Motor