

Name: _____



PASANGKAN BANGUN DATAR

Hubungkan titik di sebelah kiri dengan sebelah kanan sesuai dengan bangun datar yang benar!

Persegi panjang •



Persegi •



Lingkaran •



Segilima •



Segitiga •



Geometri : Bangun Datar

Perhatikan gambar bangun datar dibawah ini. Pilihlah nama bangun datar beserta jumlah sisinya



Nama

Jumlah sisi



Nama

Jumlah sisi



Nama

Jumlah sisi



Nama

Jumlah sisi



Nama

Jumlah sisi



Nama

Jumlah sisi



Nama

Jumlah sisi



Nama

Jumlah sisi



Nama

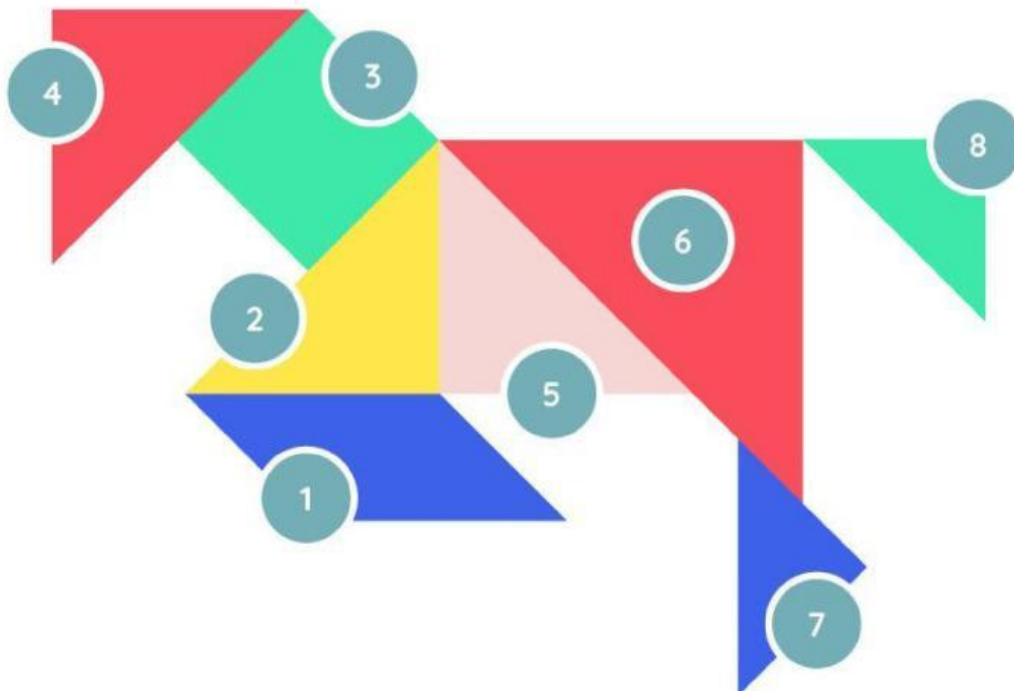
Jumlah sisi

Nama :

Kelas :

Bangun Datar

Pilihlah nama bangun sesuai nomor yang diberikan.



1	4	7
2	5	8
3	6		

Nama : _____



Kelas : _____

LKPD Bangun Ruang

Kegiatan 1

Tuliskan nama bangun ruang dibawah ini!


1.



2.



3.



4.



5.



Kegiatan 2

Berikut ini bangun ruang di lingkungan sekitar. Beri nama bangun ruang dibawah ini sesuai dengan pilihan yang disediakan

Balok

Tabung

Bola

Kubus

Kerucut

