

LKPD

Lembar Kerja Peserta Didik
Ilmu Pengetahuan alam
dan Sosial

Nama :

Kelas :



Bagian Tumbuhan



Nama:



Kelas:



Sebelum mulai mengisi mari kita cek video berikut



Perhatikan materi presentasi berikut





Bagian Tumbuhan




Nama:



Kelas:



Tuliskan nama bagian tumbuhan serta fungsinya sesuai angka pada gambar!



Nama bagian tumbuhan:

Fungsi: 1

.....

.....

.....

Nama bagian tumbuhan:

Fungsi: 2

.....

.....

.....

Nama bagian tumbuhan:

Fungsi: 3

.....

.....

.....

Nama bagian tumbuhan:

Fungsi: 5

.....

.....

.....

Nama bagian tumbuhan:

Fungsi: 4

.....

.....

.....

LKPD

Bagian-Bagian Tumbuhan

Nama:




Kelas:



Tulishlah jawaban kamu pada kolom yang disediakan!





Daun



1 Bentuk daun bermacam-macam dan unik, coba sebutkan apa saja itu? ✓✓

2 Di dalam daun terkandung klorofil (zat hijau). Apa sih fungsi klorofil? ✓✓

Akar




1 Ada dua macam akar, apakah kalian tahu apa saja itu? ✓✓

2 Kira-kira kalau tanaman nggak punya akar, bakal jadi gimana ya? ✓✓

☰
Batang
📷



1 Ceritain dong, apa sih guna batang pada tumbuhan? ✓✓


2 Batang kayu mengandung kambium, lho. Apa sih fungsinya? ✓✓

📷
📧

1 Pernahkah kamu melihat bunga pada tumbuhan? Menurut kamu, apakah semua tumbuhan memilik bunga? ✓✓

2 Tahukah kamu, kalau lebah berperan dalam proses perkembangan tumbuhan. proses apakah itu? ✓✓

☰
Bunga
📷



📷
📧