

Primaria – Colegio Los Fresnos  
Guía de Matemáticas  
Primer Trimestre  
2° Grado



NOMBRE:

GRUPO:

Instrucciones: Observa las sucesiones y completa de 5 en 5.

51	55
61	65
71	
	80
81	
	90
96	100

- Observa la siguiente imagen y resuelve el siguiente ejercicio.

**VALOR POSICIONAL**

Completa los cuadros

NÚMERO	D	U
84		
31		
46		
41		
15		
69		

NÚMERO	D	U
2	1	
4	3	
5	6	
1	9	
3	5	
6	7	


*By Acrobio*

- Observa las siguientes tarjetas y escribe el nombre de cada cifra.





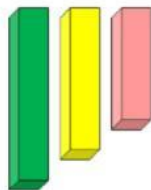
- Arrastra las tarjetas para formar las cifras que te piden.



cincuenta y dos

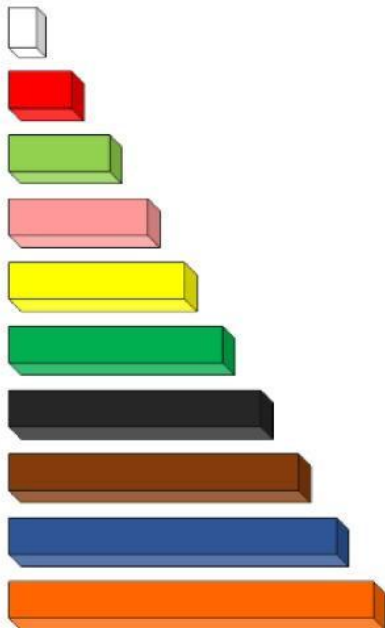
cuarenta y tres

- Une con una línea cada regleta con su valor.



- Arrastra las regletas para armar un tren.

Tren  $9 + 6 =$



- Observa el avión y escribe el resultado.



- Realiza la siguiente comparación de cantidades utilizando los signos, arrastrando los signos donde correspondan.



59  22

21  49

18  18

- Observa las imágenes, realiza las operaciones en un cuaderno y contesta lo que se pide.



- Pedro fue a la paletería y se compró los tres productos.  
¿Cuánto pagó por todos los productos?
- Anita compró una nieve napolitano y pagó con \$50. ¿Cuánto le regresaron de cambio?
- Paco trae \$15 para comprar una nieve de fresa. ¿Cuánto le falta para comprar la nieve?