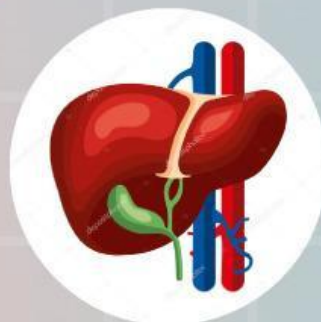
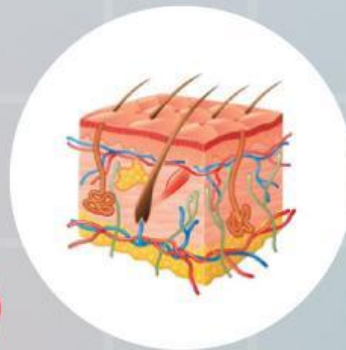





LEMBAR KERJA PESERTA DIDIK (LKPD)

SISTEM EKSKRESI



Petunjuk penggunaan LKPD



- 
1. Buatlah kelompok dengan jumlah 5 orang
 2. Bacalah soal-soal dengan cermat
 3. Diskusikanlah dengan teman sekelompokmu
 4. Presentasikanlah jawaban kelompokmu ddi depan kelas dengan baik

~Selamat mengerjakan~



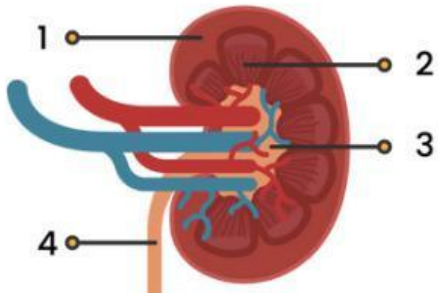
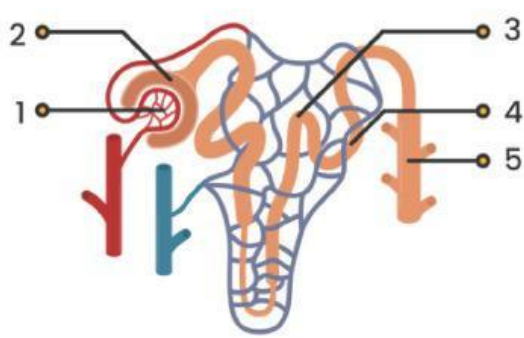
Sistem Ekskresi

Nama anggota kelompok :

- 1.
- 2.
- 3.
- 4.
- 5.

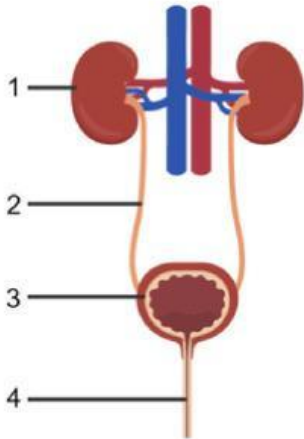
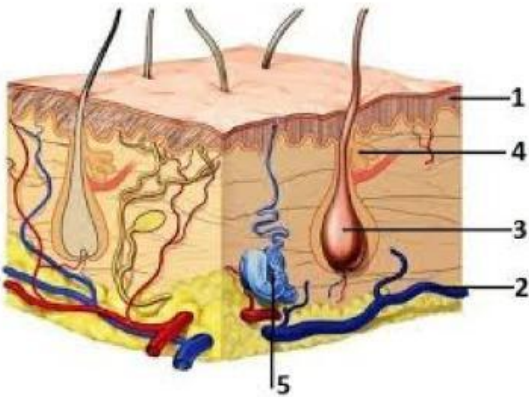
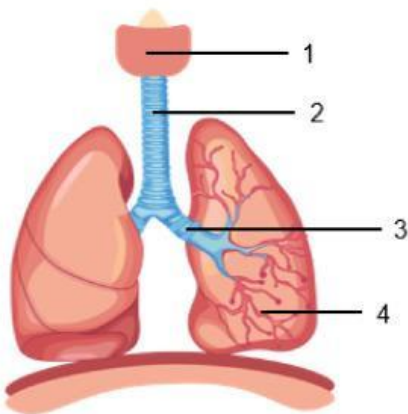
Kelas :

Lengkapi keterangan gambar pada tabel di bawah ini!

1.		<ol style="list-style-type: none">1.2.3.4.
2.		<ol style="list-style-type: none">1.2.3.4.5.

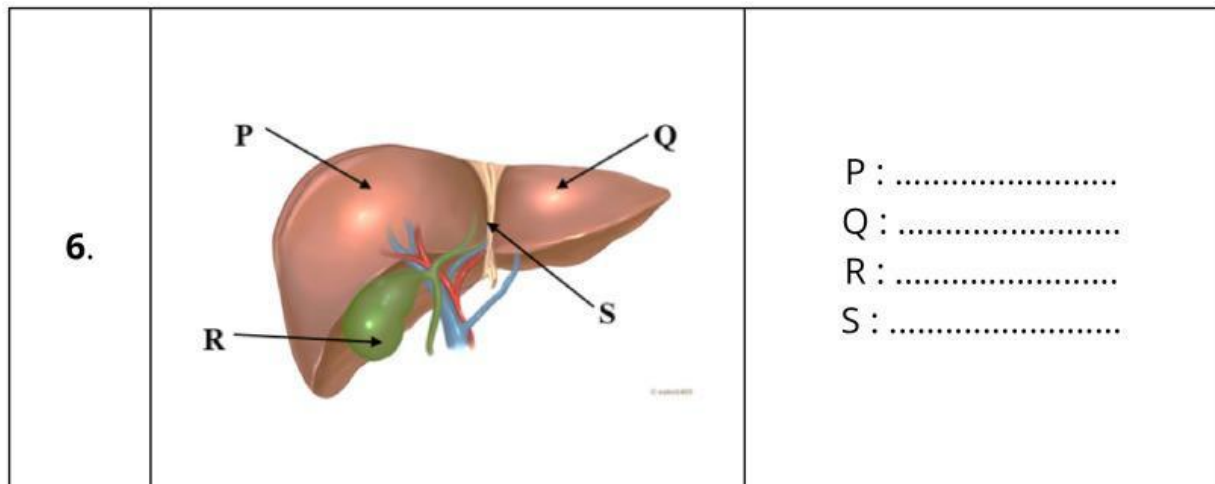
Selamat Berdiskusi



3.		<p>1.</p> <p>2.</p> <p>3.</p> <p>4.</p>
4.		<p>1.</p> <p>2.</p> <p>3.</p> <p>4.</p> <p>5.</p>
5.		<p>1.</p> <p>2.</p> <p>3.</p> <p>4.</p>

Selamat Berdiskusi





Jawalah isian pertanyaan di bawah ini!

7. Apa fungsi utama dari ginjal dalam sistem ekskresi manusia?

8. Apa kedudukan organ hati dalam sistem ekskresi?

9. Mengapa paru-paru dianggap bagian dari sistem ekskresi?

10. Bagaimana kulit berperan dalam sistem ekskresi?

Selamat Berdiskusi

