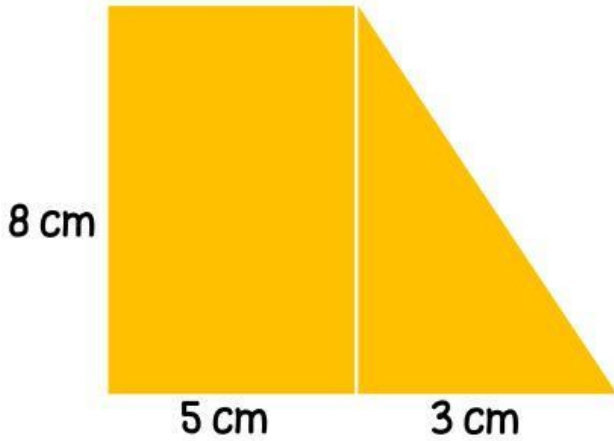


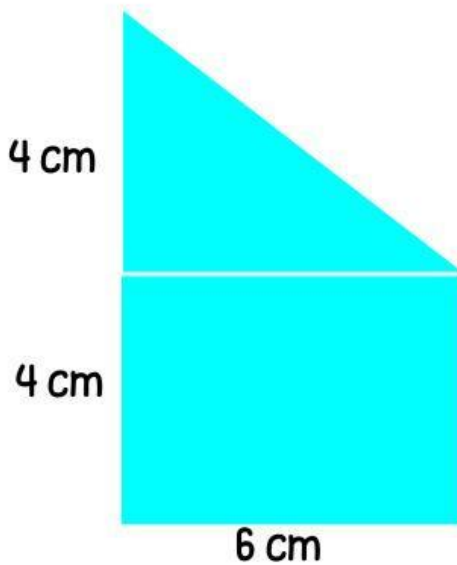
CALCULÁ LA SUPERFICIE DE CADA FIGURA.



Superficie del rectángulo =  $\text{cm}^2$

Superficie del triángulo =  $\text{cm}^2$

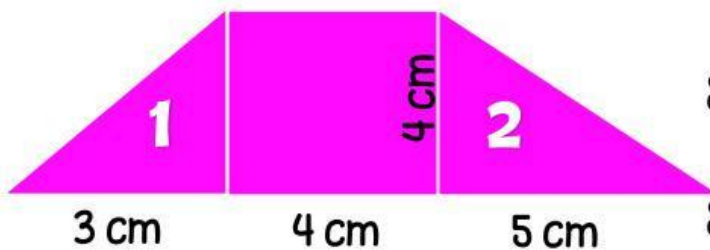
Superficie del trapecio =  $\text{cm}^2$



Superficie del rectángulo =  $\text{cm}^2$

Superficie del triángulo =  $\text{cm}^2$

Superficie del trapecio =  $\text{cm}^2$



Superficie del rectángulo =  $\text{cm}^2$

Superficie del triángulo 1 =  $\text{cm}^2$

Superficie del triángulo 2 =  $\text{cm}^2$

Superficie del trapecio =  $\text{cm}^2$