


1. Leemos y comprendemos:

La familia de Hugo tiene una granja en Ayacucho, ellos tenían 86 ovejas. Sin embargo, por falta de medicamentos murieron 28 de ellas. ¿Cuántas ovejas están vivas?



- ¿De quién se trata el problema?

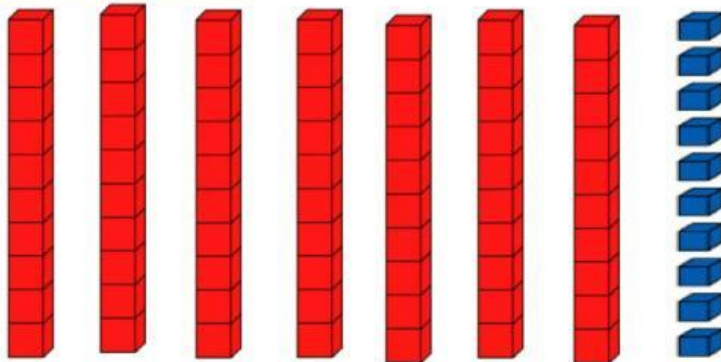

- ¿De dónde son su familia?


- ¿Cuántas ovejas tenía antes? ¿Cuántas fallecieron?

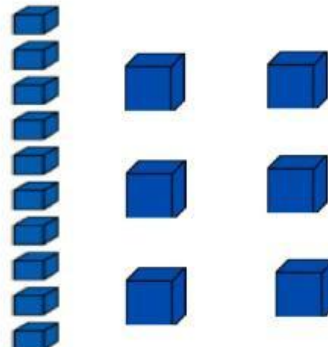

- ¿Qué nos pide el problema?


2. ¡Planteamos estrategias! Grafica tu estrategia con el material concreto.

Estrategia de barras



Haciendo uso de material concreto



Expresión numérica

D	U

Respuesta: En la granja aún quedan \_\_\_\_\_

# SEGUIMOS APRENDIENDO

Resuelve las operaciones, luego busca los resultados en el pupiletras.

D	U
7	5
6	3
<hr/>	

D	U
8	4
7	0
<hr/>	

D	U
1	9
1	1
<hr/>	

D	U
1	7
1	0
<hr/>	

D	U
2	9
	9
<hr/>	

D	U
2	4
1	1
<hr/>	

D	U
1	8
1	5
<hr/>	

D	U
2	6
1	5
<hr/>	

V	E	I	N	C	A	T	O	R	C	E	Z
B	A	F	Y	Q	B	W	G	Q	V	A	F
O	H	O	N	C	E	R	D	H	S	T	D
C	Q	Z	G	X	V	K	W	A	I	X	O
H	T	D	F	Y	E	F	R	B	E	U	C
O	U	W	N	D	I	J	W	Q	T	V	E
D	I	X	Q	P	N	V	X	L	E	R	Q
O	N	T	F	A	T	P	N	D	Z	T	V
X	J	Z	B	U	E	B	V	H	G	N	A
G	R	Y	W	G	Ñ	R	Q	T	R	E	S
A	E	T	R	E	C	E	Y	F	W	F	D
V	T	H	Z	K	T	V	T	O	R	C	E

3. ¡CAMBIO I Y II! Relaciona los problemas con las operaciones que correspondan.

Piero preparo 54 pizzas para venderlas en su pizzería y vendió 20 pizzas. ¿Cuántas pizzas le quedan?

$$49-15 = 34$$

Roberto repartió 26 cartas por la mañana y 24 cartas por la tarde. ¿Cuántas cartas repartió Roberto?

$$35+24 = 59$$

Paul compro 49 chocolates y regalo 15 a su hermano menor. ¿Cuántos chocolates le quedan a Paola?

$$27+16 = 43$$

Elvis lavo 35 platos en la mañana y 24 platos en la tarde. ¿Cuántos platos lavo Luis?

$$26+24 = 50$$

Rodrigo tiene 27 hojas y su mama le trae 16 hojas más para que las guarde. ¿Cuántas hojas guardo

$$54-20 = 24$$