

Vamos Classificar os Triângulos



1. **Completa** os espaços em branco com as seguintes palavras. Para isso **arrasta** as palavras para o respetivo espaço.

todos os lados com
medidas iguais.

todos os lados com
medidas diferentes.

isósceles

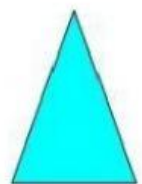

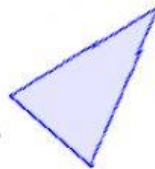
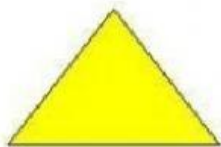
a. Os triângulos escalenos têm

b. Os triângulos

têm pelo menos dois lados iguais.

c. Os triângulos equiláteros têm

2. **Classifica** os triângulos arrastando-os para a coluna correta.



Isósceles	Equiláteros	Escalenos

Se tiveres dúvidas consulta o apontamento aqui