


|   |  |                                    |
|---|--|------------------------------------|
|  | <b>INSTITUCIÓN EDUCATIVA<br/>CIUDAD DE CARTAGO</b><br>Nit. 836000146-1<br>Resolución de aprobación No.1669 del 3 Sep./2002 | Página <b>1</b> de <b>2</b>        |
|   |  | CÓDIGO: 250.4.10.01                |
|   | <b>Pruebas Saber Institucionales</b>   | VERSION 1                          |
|   |  | Fecha de Aprobación:<br>09/09/2011 |

| Grado   | Asignatura | Docente               |
|---------|------------|-----------------------|
| Segundo | Naturales  | Diana Carolina Rendón |

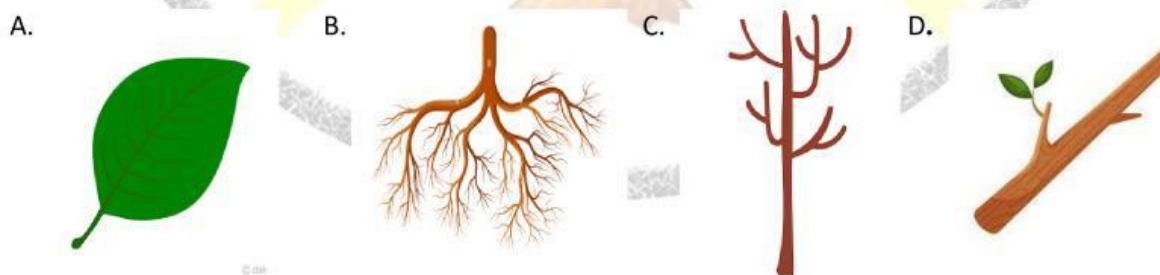
1. Elige la opción que representa a un ser **No vivo**.




2. Elige la opción que **no es una necesidad de los seres vivos**.



3. ¿Qué parte de la planta absorbe los nutrientes del suelo?






|   |  |                                    |
|---|--|------------------------------------|
|  | <b>INSTITUCIÓN EDUCATIVA<br/>CIUDAD DE CARTAGO</b><br>Nit. 836000146-1<br>Resolución de aprobación No.1669 del 3 Sep./2002 | Página <b>2</b> de <b>2</b>        |
|   |  | CÓDIGO: 250.4.10.01                |
|   | <b>Pruebas Saber Institucionales</b>   | VERSION 1                          |
|   |  | Fecha de Aprobación:<br>09/09/2011 |

4. Según el lugar donde pueden vivir ¿Qué tipo de planta es la **Victoria regia**?

- A. Acuática
- B. Terrestre
- C. Aeroterrestre



5. En qué parte de la planta se lleva a cabo el proceso de la fotosíntesis

- A. 
- B. 
- C. 
- D. 