

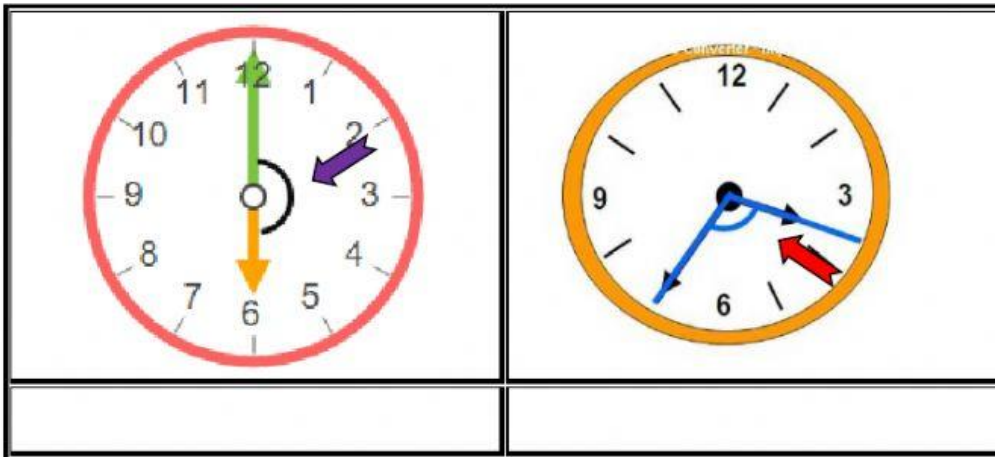




(4º) ACTIVIDAD EN CLASE: Reconociendo Ángulos Parte 2.

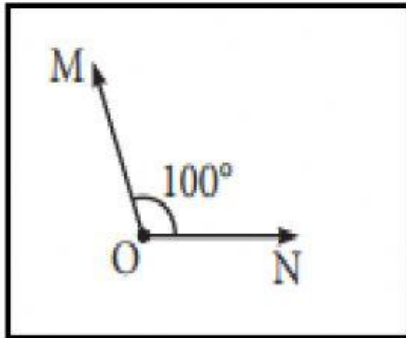
1. Observa los relojes y escribe debajo de cada uno el nombre del ángulo que se indica.




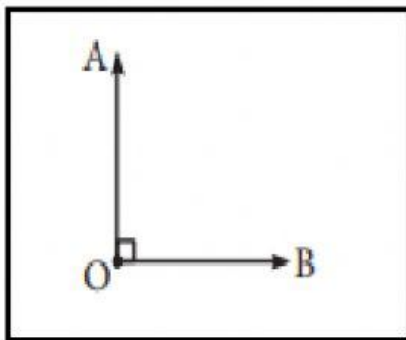



**(4º) ACTIVIDAD EN CLASE: Reconociendo Ángulos
Parte 2.**

2. Nombra cada ángulo (en sentido contrario a las manecillas del reloj):



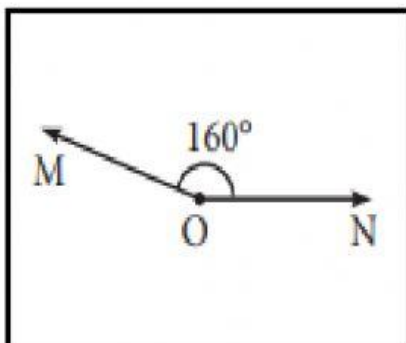








3. Clasifica cada uno de los ángulos, eligiendo la opción correcta:



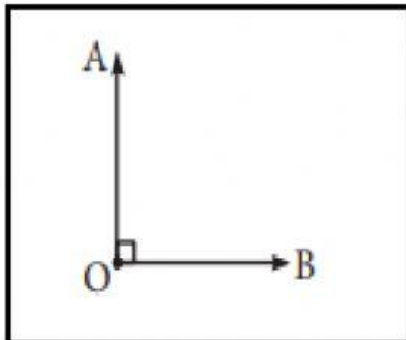
a. Ángulo Llano o Lineal.

b. Ángulo Obtuso.

c. Ángulo Completo.



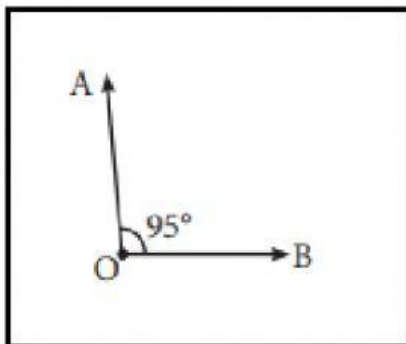
**(4º) ACTIVIDAD EN CLASE: Reconociendo Ángulos
Parte 2.**



a. Ángulo Agudo.

b. Ángulo Obtuso.

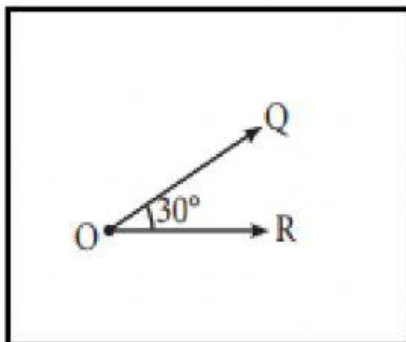
c. Ángulo Recto.



a. Ángulo Completo.

b. Ángulo Recto.

c. Ángulo Obtuso.



a. Ángulo Agudo.

b. Ángulo Llano o lineal.

c. Ángulo Obtuso.

