

Statistika-DATA

Membaca dan Menafsirkan Diagram Gambar
(Piktogram)

Mrs. Fitri Yanti

Guru SDS Yasporbi 1


Email : fitriyantimiftah@gmail.com

NAMA SISWA : _____

KELAS : _____






Isilah titik-titik berdasarkan tabel berikut !


1. Perhatikan diagram gambar berikut !



- Siswa yang hobi menyanyi sebanyak ___ orang.
- Siswa yang hobi melukis sebanyak ___ orang.
- Siswa yang hobi olahraga sebanyak ___ orang.
- Siswa yang hobi membaca sebanyak ___ orang.
- Siswa yang hobi olahraga sebanyak ___ orang.
- Hobi yang paling banyak digemari siswa adalah _____
- Jumlah seluruh siswa adalah ___ orang.

2. Berikut adalah data nilai ulangan matematika siswa kelas V.

5	
6	
7	
8	
9	

Keterangan:
 = 2 orang

- Siswa yang mendapat nilai 7 sebanyak ___ orang.
- Siswa yang mendapat nilai 6 sebanyak ___ orang.
- Siswa yang mendapat nilai 8 sebanyak ___ orang.
- Siswa yang mendapat nilai 5 sebanyak ___ orang.
- Siswa yang mendapat nilai 9 sebanyak ___ orang.
- Nilai tertinggi yang diperoleh siswa adalah _____
- Nilai terendah yang diperoleh siswa adalah _____
- Jumlah seluruh siswa adalah _____

Miss. Fitri Yanti
Guru SDS Yasporbi 1

Email : fitriyantimiftah@gmail.com





3. Pekerjaan kepala keluarga RT 03 Desa Sukamahi adalah sebagai berikut :


Petani	
Pegawai negeri	
Wiraswasta	
Nelayan	

Keterangan:
 = 5 orang

- Kepala keluarga yang bekerja sebagai petani sebanyak ____ orang.
- Kepala keluarga yang bekerja sebagai nelayan sebanyak ____ orang.
- Pekerjaan yang paling banyak ditekuni kepala keluarga RT 03 adalah _____
sebanyak ____ orang.
- Pekerjaan yang paling sedikit ditekuni kepala keluarga RT 03 adalah _____
sebanyak ____ orang.

4. Perhatikan hasil penjualan es krim berikut :

Vanila	
Cokelat	
Stroberi	
Moka	

Keterangan:
 = 10 buah

- Es krim stroberi terjual sebanyak ____ buah.
- Es krim rasa moka terjual sebanyak ____ buah.
- Es krim yang paling banyak terjual adalah rasa _____, sebanyak ____ buah.
- Es krim yang paling sedikit terjual adalah rasa _____ sebanyak ____ buah.

Mrs. Fitri Yanti
Guru SDS Yasporbi 1

Email : fitriyantimiftah@gmail.com